

## 小学地理 まとめ問題 (解答)

### 1, 世界地図の見方

1, 次のカッコ内の正しいほうに○をつけてください。

・地球は ( 四角・**球** ) 形をしているから、平面の地図に大きさ、角度、方位をすべて正しく書き表すことが ( **できない**・できる )。

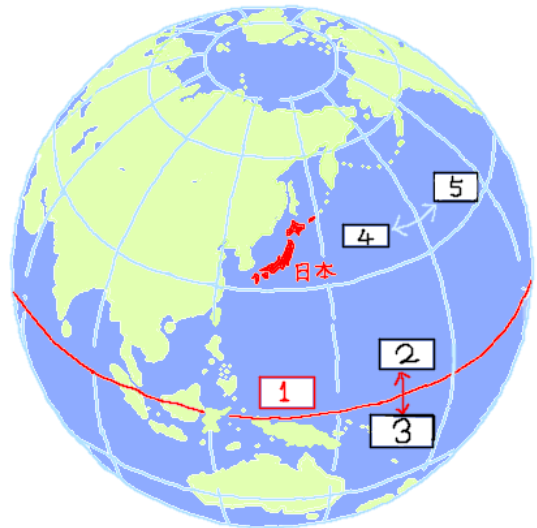
・東西の位置は ( 緯度・**経度** ) から、南北の位置は ( **緯度**・経度 ) からわかる。

・緯度は ( 本所子午線・**赤道** ) が通っている位置を 0 度とし、北は北極点のある ( 北緯 100・**北緯90** ) 度まで、南は南極点のある ( 南緯100・**南緯90** ) 度まで。同じ緯度を結んだ線を ( 経線・**緯線** ) という。

・経度は、北極からイギリスの ( パリ・**ロンドン** ) を通って、南極を結ぶ ( **本所子午線**・赤道 ) を 0 度とする。その線から東は

( 東経90度・**東経180度** )、西は ( 西経90度・**西経180度** ) までである。同じ経度を結んだ線を ( 経線・**緯線** ) という。

・日本の位置は、( 南緯・**北緯** ) 20 度～46 度、( 西経・**東経** ) 122 度～154 度の位置にある。例えば、東京はおよそ ( 南緯・**北緯** ) 36 度、( 西経・**東経** ) 140 度にある。



2, 地球儀の 1～5 の番号に入る言葉を下のなかから選んでください。

- 1 ( **赤道** )    2 ( **北緯** )    3 ( **南緯** )  
4 ( **東経** )    5 ( **西経** )

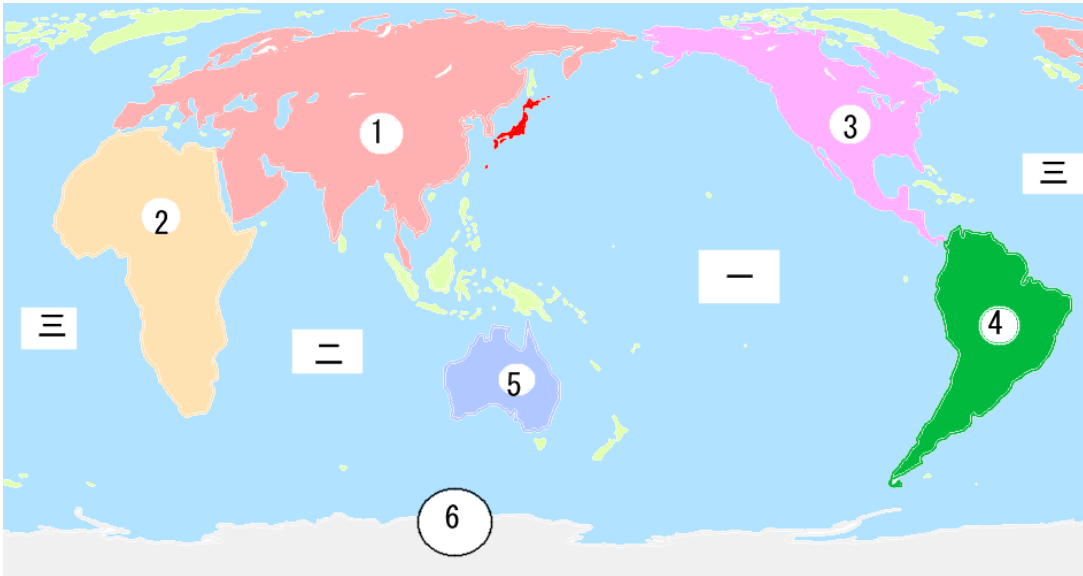
東経 (とうけい)、南緯 (なんい)、西経 (せいけい)、北緯 (ほくい)、赤道 (せきどう)

3, 自分の住んでいる市や町のおよその緯度と経度を調べてください。

例：香川県高松市は 東経 134 度、北緯 34 度

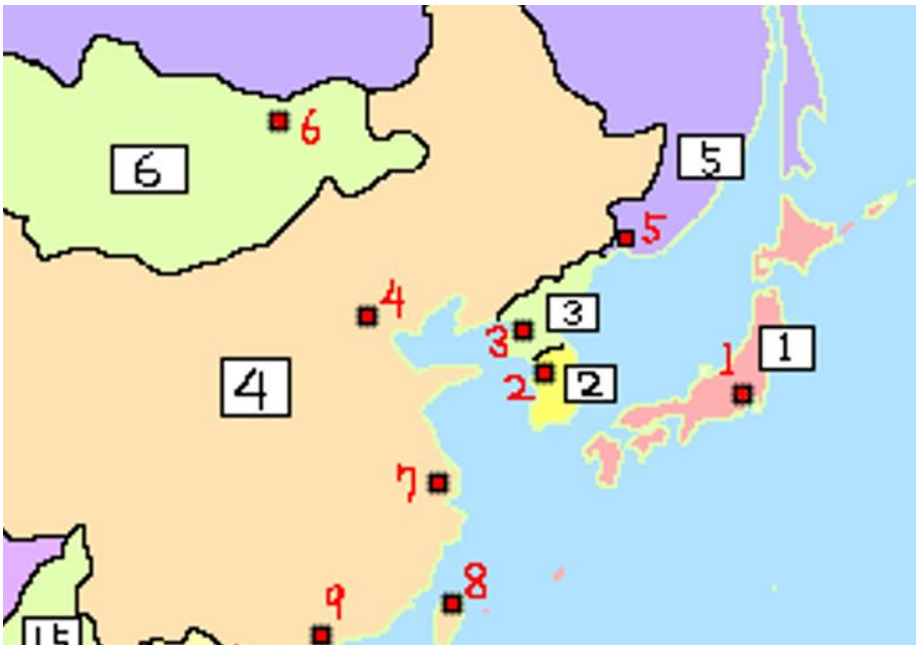
2, 世界の海洋と大陸

1, 次の大陸1～6の名前と、海洋一～三の名前を教えてください。



- ① ( ユーラシア ) 大陸      ② ( アフリカ ) 大陸      ③ ( 北アメリカ ) 大陸  
④ ( 南アメリカ ) 大陸      ⑤ ( オーストラリア ) 大陸      ⑥ ( 南極 ) 大陸  
一 ( 太平 ) 洋      二 ( インド ) 洋      三 ( 大西 ) 洋  
太平洋の「太」と大西洋の「大」を間違えないように

2, 日本のまわりの国(1～6)・都市(1～9)の名前を教えてください。



国の名前

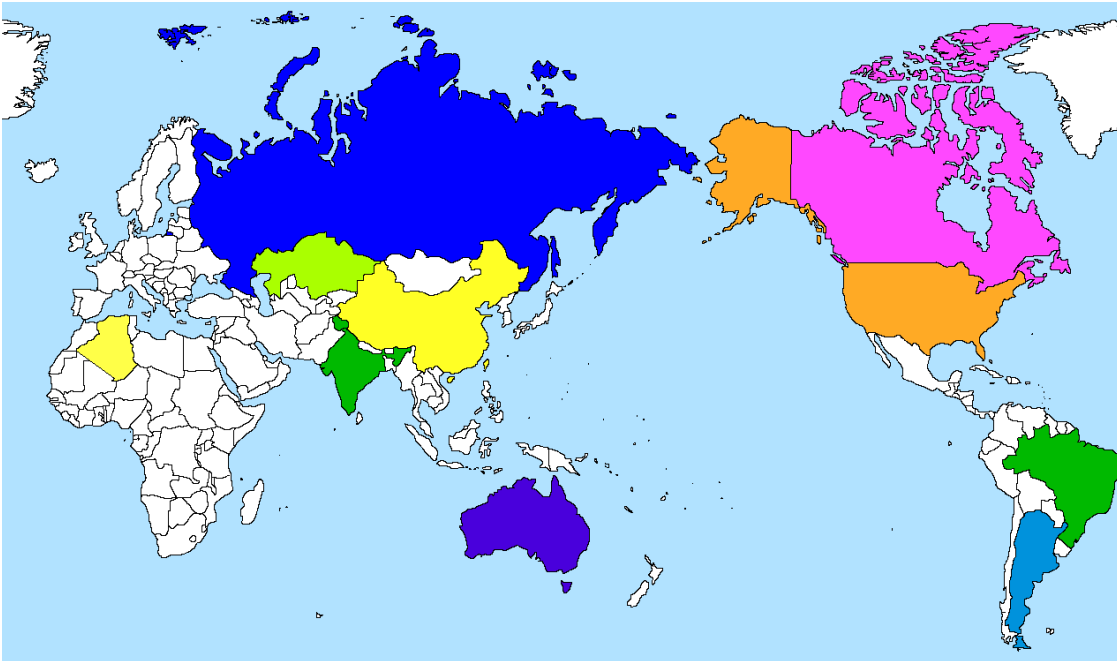
- 1 ( 日本 )  
2 ( 韓国 )  
3 ( 北朝鮮 )  
4 ( 中国 )  
5 ( ロシア )  
6 ( モンゴル )

都市の名前

- 1 ( 東京 )  
2 ( ソウル )  
3 ( ピョンヤン )  
4 ( ペキン (北京) )  
5 ( ウラジオストク )

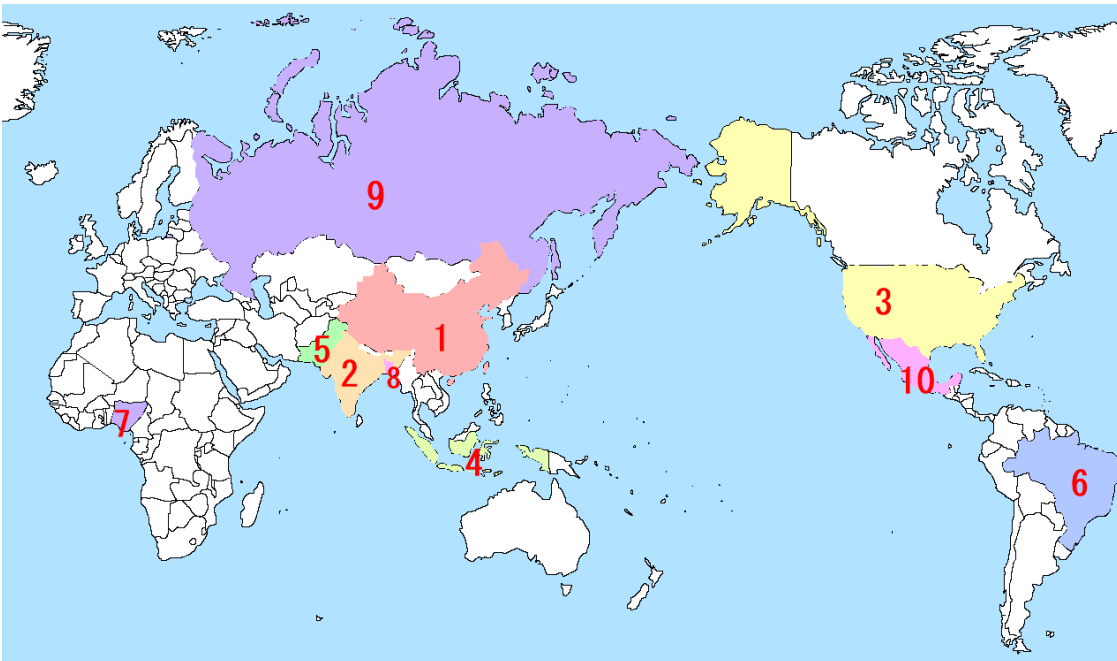
- 6 ( ウランバートル )    7 ( シャンハイ (上海) )    8 ( タイペイ (台北) )    9 ( ホンコン (香港) )

3, 面積が大きい国について、1～10の国に色をぬってください。



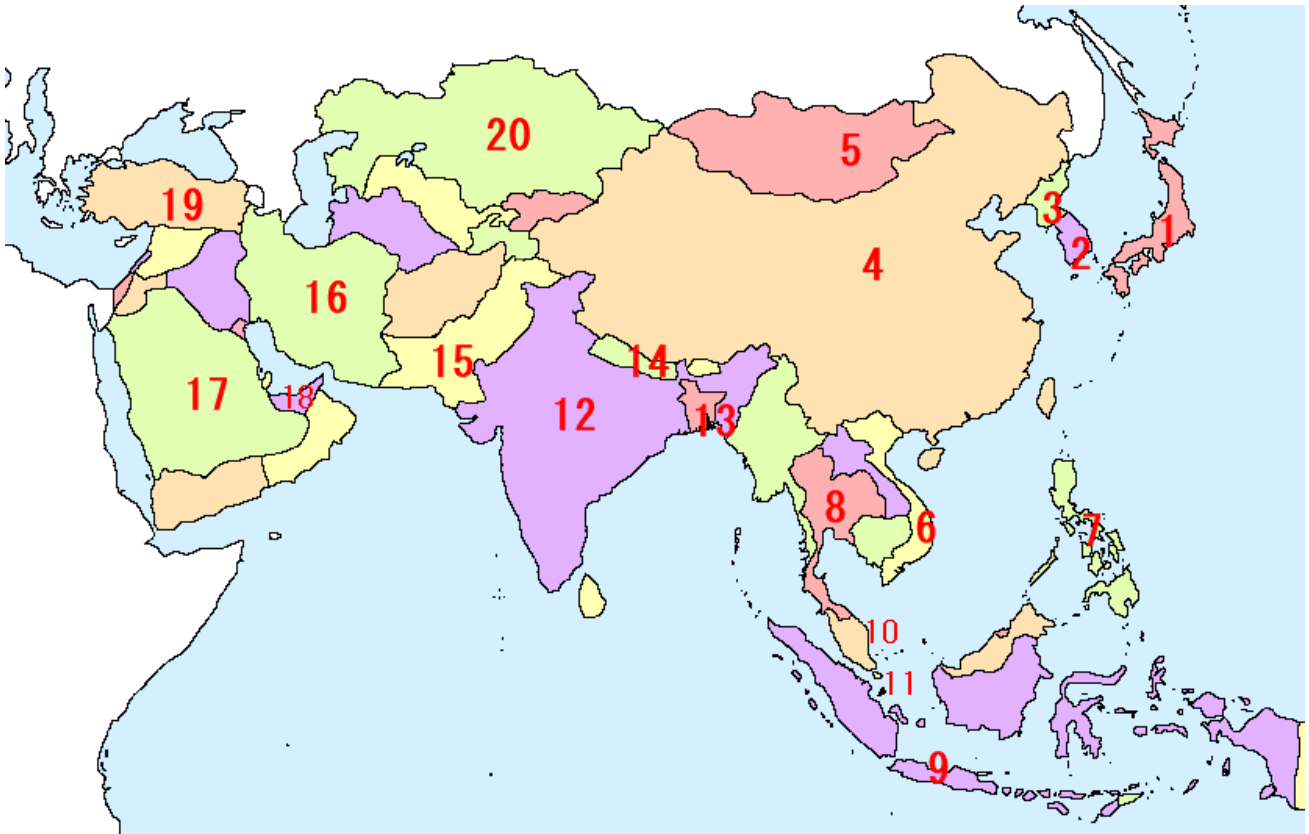
- 1 ロシア (青色)    2 カナダ (ピンク色)    3 アメリカ (オレンジ色)    4 中国 (黄色)  
5 ブラジル (緑色)    6 オーストラリア (こん色)    7 インド (緑色)  
8 アルゼンチン (青色)    9 カザフスタン (黄緑色)    10 アルジェリア (黄色)

4, 人口が多い国について、1～10の国の名前を答えてください。



- 1 ( 中国 )    2 ( インド )    3 ( アメリカ )    4 ( インドネシア )  
5 ( パキスタン )    6 ( ブラジル )    7 ( ナイジェリア )    8 ( バングラティシュ )  
9 ( ロシア )    10 ( メキシコ )

5, アジアの国について、1～20の国の名前を教えてください。



1 日本	2 韓国	3 北朝鮮	4 中国
5 モンゴル	6 ベトナム	7 フィリピン	8 タイ
9 インドネシア	10 マレーシア	11 シンガポール	12 インド
13 バングラディシュ	14 ネパール	15 パキスタン	16 イラン
17 サウジアラビア	18 アラブ首長国連邦	19 トルコ	20 カザフスタン

ヒント

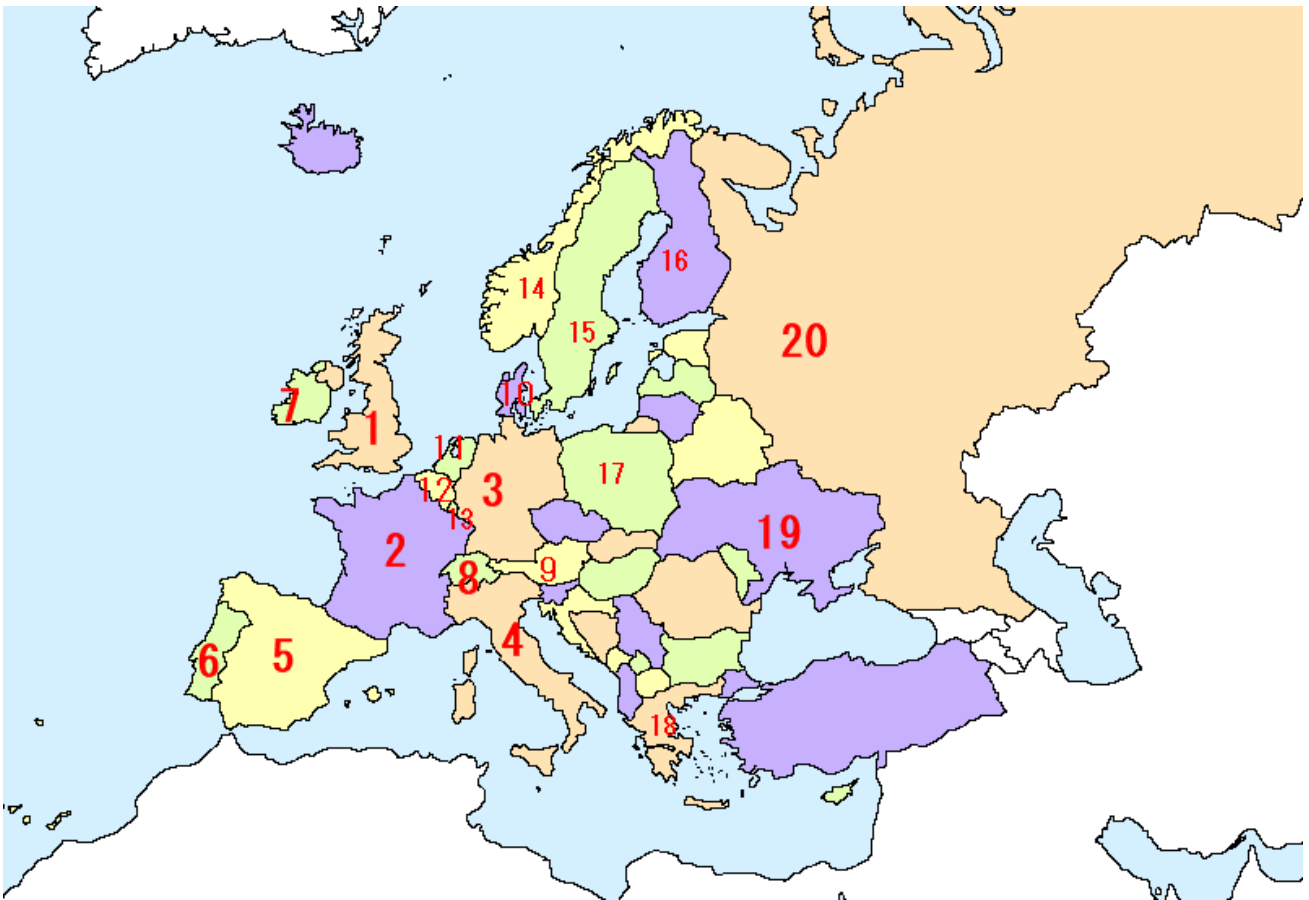
10 はオレンジ色の国。大陸のところと島のところの両方があるよ。

11 は日本の淡路島ほどの大きさの都市。

14 は世界で最も高い山エベレストがある国

18 は高層ビルの多いドバイなどの都市がある国。

6, ヨーロッパの国について、次の1~20国を答えてください。



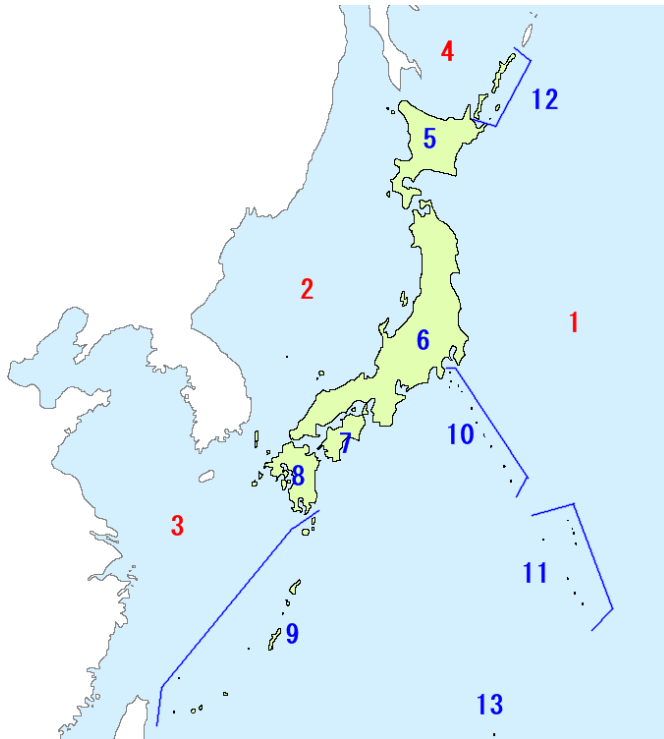
1 イギリス	2 フランス	3 ドイツ	4 イタリア
5 スペイン	6 ポルトガル	7 アイルランド	8 スイス
9 オーストリア	10 デンマーク	11 オランダ	12 ベルギー
13 ルクセンブルク	14 ノルウェー	15 スウェーデン	16 フィンランド
17 ポーランド	18 ギリシャ	19 ウクライナ	20 ロシア

ヒント

1は鉄道が生まれた国、英語はこの国の言葉。2は芸術とワインが有名 3は自動車やソーセージが有名な国 4はピザやパスタなど食べ物で有名 5はバリエアなど魚や貝の料理、サッカーが強い国 6は戦国時代に日本と貿易していた国 8はアルプスの山とチーズが有名 9はクラシック音楽が有名だが、オーストラリアに間違えられやすい 10はアンデルセンの出身、LEGO ブロックも生まれた。11 風車とチューリップで有名。江戸時代の日本と貿易を続けた国 12はチョコレートやワッフルなどお菓子が有名 14はサーモンの養殖、氷河とムクの「叫び」で有名な国 15はイケアやボルボ、H&Mなど有名な企業が多い国 16はサンタクロースがいる国

3, 日本の国土の特色

1, 日本について、次の1~4の海と5~13の島の名前を教えてください。



海の名前

- 1 ( 太平洋 )
- 2 ( 日本海 )
- 3 ( 東シナ海 )
- 4 ( オホーツク海 )

島の名前

- 5 ( 北海道 ) 6 ( 本州 )
- 7 ( 四国 ) 8 ( 九州 )
- 9 ( 南西諸島 )
- 10 ( 伊豆諸島 )
- 11 ( 小笠原諸島 )
- 12 ( 北方領土 )
- 13 ( 沖ノ島 )

2, 日本の領域について、次のカッコ内の正しい方に○をつけてください。

- ① 日本の北のはしが ( 宗谷岬・**択捉島** )、南のはしが ( 南鳥島・**沖ノ鳥島** )、西のはしが ( 南大東島・**与那国島** )、東のはしが ( 沖ノ鳥島・**南鳥島** ) です。
- ② 北海道にある ( 尖閣諸島・**北方領土** ) はロシアが占領したまま、日本に返還されていません。また竹島も韓国が占拠したままになっています。

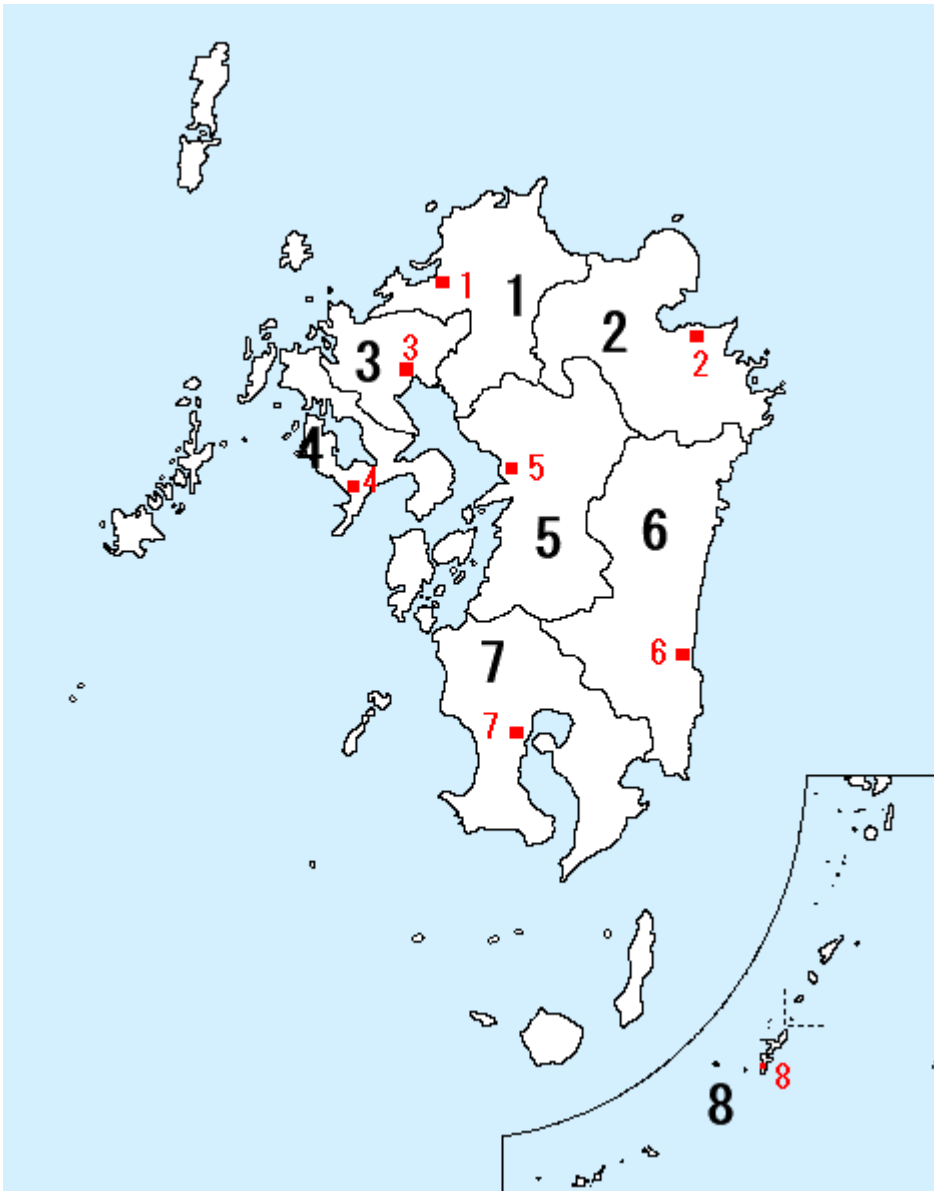
3, 日本の地形について、次のカッコ内の正しい方に○をつけてください。

- ① 日本の国土の約 (  $\frac{1}{4}$ ・ **$\frac{3}{4}$**  ) が山地でできています。
- ② 日本の平野は、川が運んでできた ( **土や砂**・岩やがれき ) が積もってできた土地が多いです。
- ③ 日本の川は、外国の川とくらべて ( 長く・**短く** ) て流れが ( ゆるやか・**急** ) な特徴があります。
- ④ 日本は、まわりを海に囲まれ、( 季節風・**海流** ) の影響を受けています。

4, 日本の地方について、次のカッコ内に語句を入れてください。

- ① 日本の地方は、北から順に ( 北海道 ) ・ ( 東北 ) ・ ( 関東 ) ・ ( 中部 ) ・ ( 近畿 ) ・ ( 中国 ) ・ ( 四国 ) ・ ( 九州 ) の8つ地域に区別されます。
- ② 日本の人口は、北から順に ( 東京 ) ・ ( 名古屋 ) ・ ( 大阪 ) の三大都市圏に集中しています。

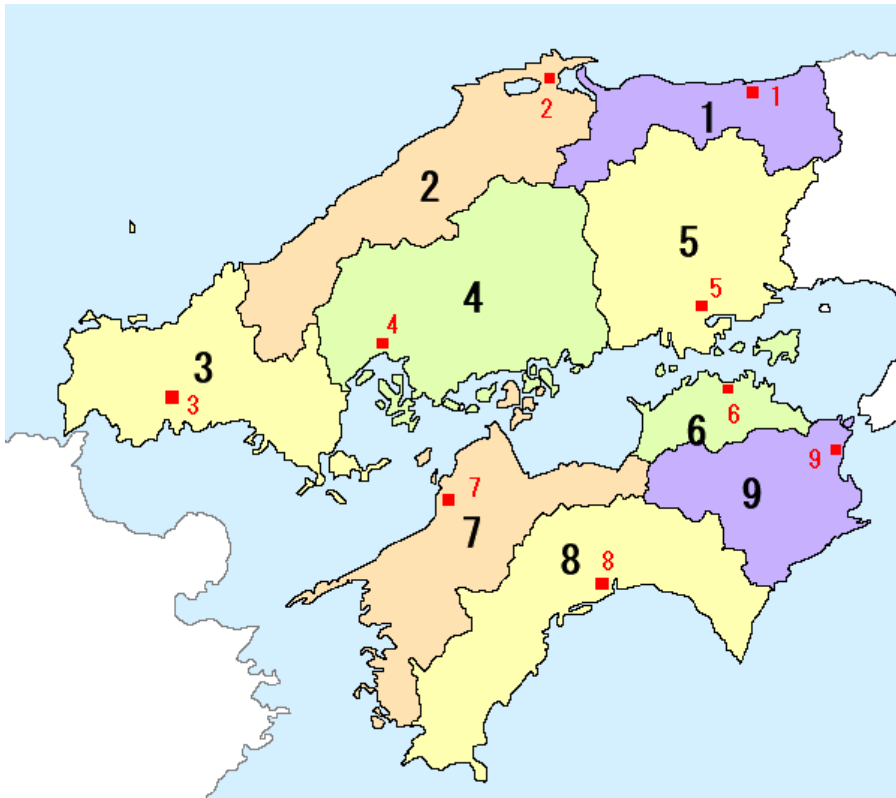
5, 九州地方について、県名1～8と県庁所在地名1～8を教えてください。



- 1 ( 福岡 ) 県  
1 ( 福岡 ) 市
- 2 ( 大分 ) 県  
2 ( 大分 ) 市
- 3 ( 佐賀 ) 県  
3 ( 佐賀 ) 市
- 4 ( 長崎 ) 県  
4 ( 長崎 ) 市
- 5 ( 熊本 ) 県  
5 ( 熊本 ) 市
- 6 ( 宮崎 ) 県  
6 ( 宮崎 ) 市
- 7 ( 鹿儿岛 ) 県  
7 ( 鹿儿岛 ) 市
- 8 ( 沖縄 ) 県  
8 ( 那覇 ) 市

県名は「漢字」で書けるようになろう

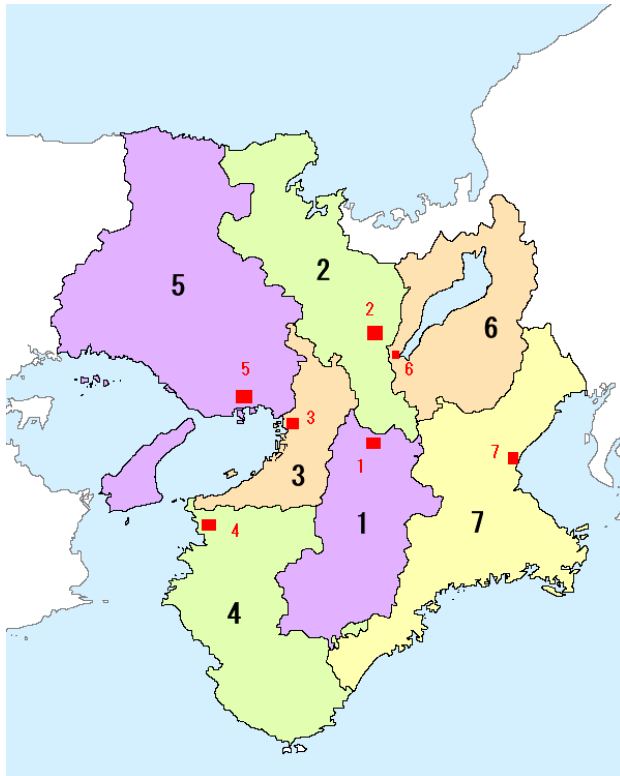
6, 中国地方、四国地方について、県名 1~9 と 県庁所在地 1~9 を教えてください。



- 1 ( 鳥取 ) 県
- 1 ( 鳥取 ) 市
- 2 ( 島根 ) 県
- 2 ( 松江 ) 市
- 3 ( 山口 ) 県
- 3 ( 山口 ) 市
- 4 ( 広島 ) 県
- 4 ( 広島 ) 市
- 5 ( 岡山 ) 県
- 5 ( 岡山 ) 市
- 6 ( 香川 ) 県
- 6 ( 高松 ) 市
- 7 ( 愛媛 ) 県
- 7 ( 松山 ) 市
- 8 ( 高知 ) 県
- 8 ( 高知 ) 市
- 9 ( 徳島 ) 県
- 9 ( 徳島 ) 市

\* 2, 6, 7 は県名と県庁所在地の名前がちがいます。

7, 近畿地方について、府県名 1~7 と 県庁所在地 1~7 を教えてください。

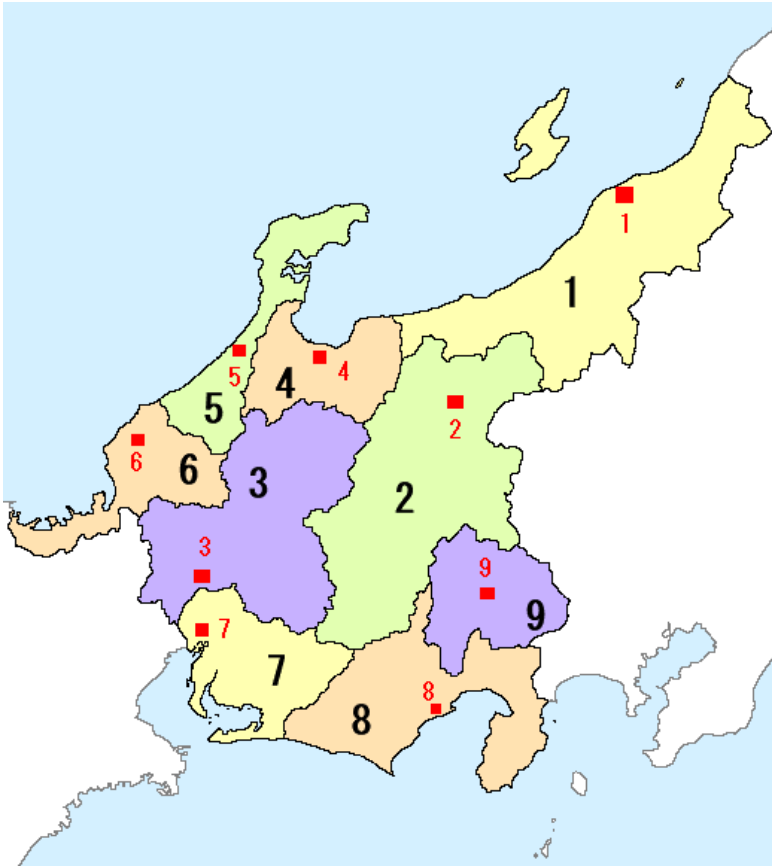


- 1 ( 奈良 ) 県
- 1 ( 奈良 ) 市
- 2 ( 京都 ) 府
- 2 ( 京都 ) 市
- 3 ( 大阪 ) 府
- 3 ( 大阪 ) 市
- 4 ( 和歌山 ) 県
- 4 ( 和歌山 ) 市
- 5 ( 兵庫 ) 県
- 5 ( 神戸 ) 市
- 6 ( 滋賀 ) 県
- 6 ( 大津 ) 市
- 7 ( 三重 ) 県
- 7 ( 津 ) 市

\* 5, 6, 7 は県名と県庁所在地の名前がちがいます。



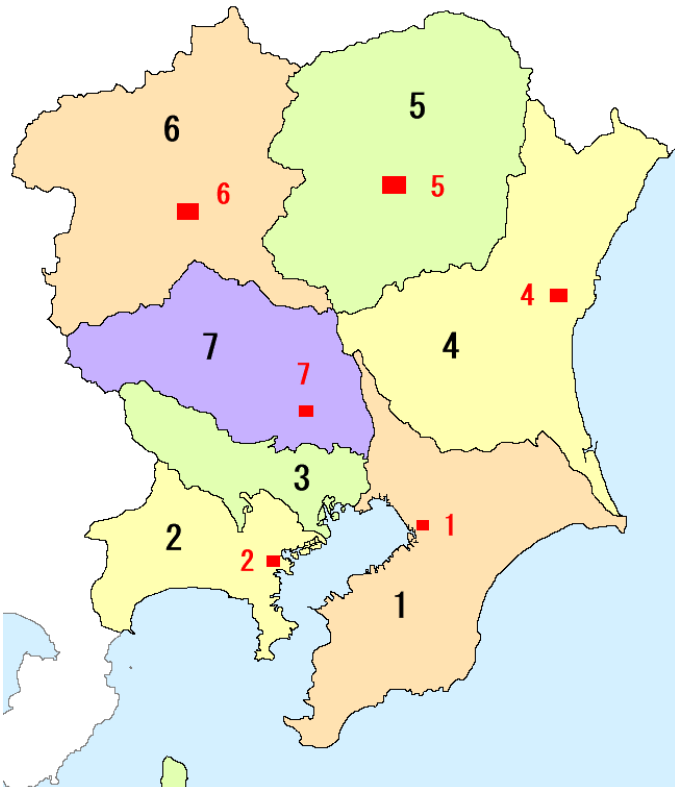
8, 中部地方について、県名 1～9 と 県庁所在地名 1～9 を教えてください。



- 1 (新潟) 県 1 (新潟) 市
- 2 (長野) 県 2 (長野) 市
- 3 (岐阜) 県 3 (岐阜) 市
- 4 (富山) 県 4 (富山) 市
- 5 (石川) 県 5 (金沢) 市
- 6 (福井) 県 6 (福井) 市
- 7 (愛知) 県 7 (名古屋) 市
- 8 (静岡) 県 8 (静岡) 市
- 9 (山梨) 県 9 (甲府) 市

\* 5, 7, 9 は県名と県庁所在地の名前がちがいます。

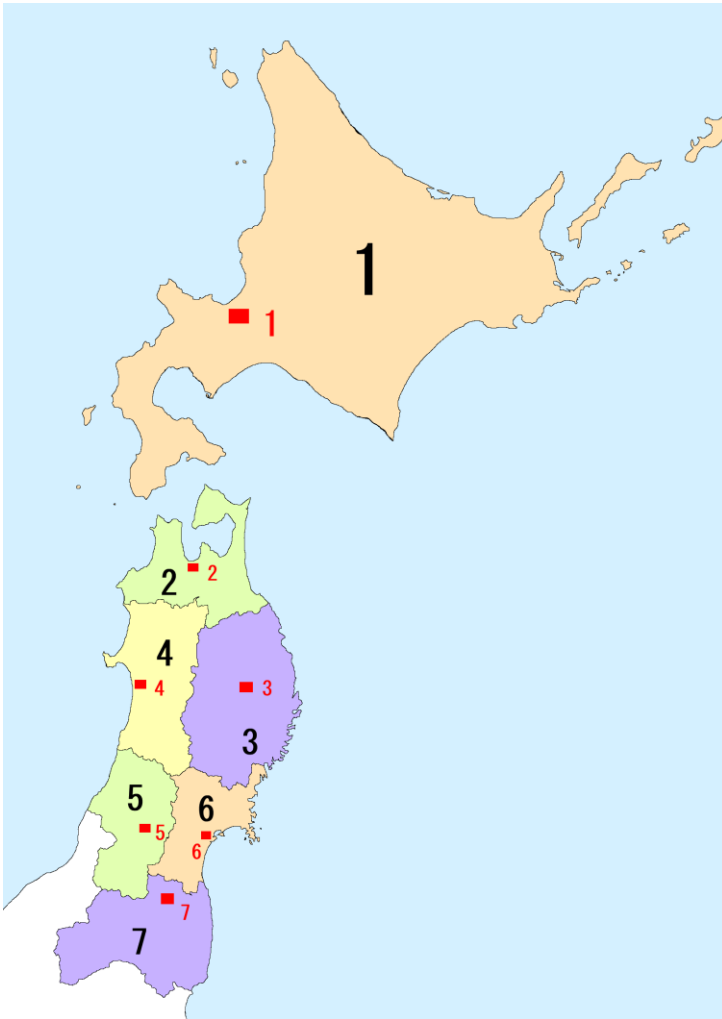
9, 関東地方について、都・県名 1～7 と 県庁所在地名 1～7 を教えてください。



- 1 (千葉) 県 1 (千葉) 市
- 2 (神奈川) 県 2 (横浜) 市
- 3 (東京) 都
- 4 (茨城) 県 4 (水戸) 市
- 5 (栃木) 県 5 (宇都宮) 市
- 6 (群馬) 県 6 (前橋) 市
- 7 (埼玉) 県 7 (さいたま) 市

\* 2, 4, 5, 6 は県名と県庁所在地名がちがいます。

10, 東北地方、北海道について、道・県名 1～7 と 県庁所在地名 1～7 を教えてください。



- 1 ( 北海 ) 道 1 ( 札幌 ) 市  
 2 ( 青森 ) 県 2 ( 青森 ) 市  
 3 ( 岩手 ) 県 3 ( 盛岡 ) 市  
 4 ( 秋田 ) 県 4 ( 秋田 ) 市  
 5 ( 山形 ) 県 5 ( 山形 ) 市  
 6 ( 宮城 ) 県 6 ( 仙台 ) 市  
 7 ( 福島 ) 県 8 ( 福島 ) 市

\* 1, 3, 6 は道・県名と県庁所在地名  
 がちがいます。

各地方の大きさ

順位	地方名	面積 (km <sup>2</sup> )
1	北海道地方	約 8 万 3420
2	東北地方	約 6 万 6950
3	中部地方	約 6 万 6800
4	九州地方	約 4 万 4510
5	近畿地方	約 3 万 3120
6	関東地方	約 3 万 2430
7	中国地方	約 3 万 1920
8	四国地方	約 1 万 8800