

## 小学地理 まとめ問題

### 1, 世界地図の見方

1, 次のカッコ内の正しいほうに○をつけてください。

・地球は（ 四角・球 ）形をしているから、平面の地図に大きさ、角度、方位をすべて正しく書き表すことが（ できない・できる ）。

・東西の位置は（ 緯度・経度 ）から、南北の位置は（ 緯度・経度 ）からわかる。

・緯度は（ 本所子午線・赤道 ）が通っている位置を0度とし、北は北極点のある（ 北緯100・北緯90 ）度まで、南は南極点のある（ 南緯100・南緯90 ）度まで。同じ緯度を結んだ線を（ 経線・緯線 ）という。

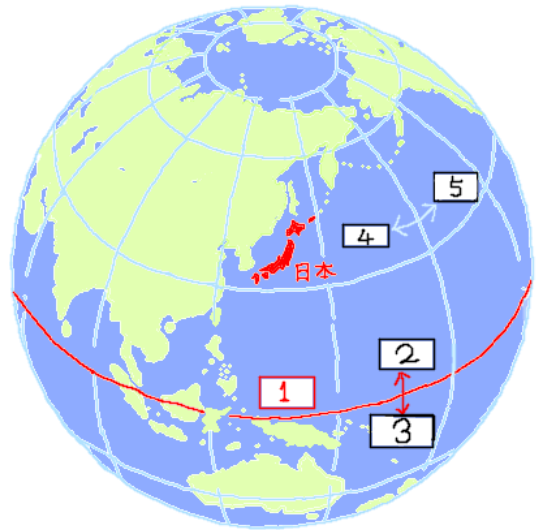
・経度は、北極からイギリスの（ パリ・ロンドン ）を通過して、南極を結ぶ（ 本所子午線・赤道 ）を0度とする。その線から東は

（ 東経90度・東経180度 ）、

西は（ 西経90度・西経180度 ）までである。同じ経度を結んだ線を（ 経線・緯線 ）という。

・日本の位置は、（南緯・北緯）20度～46度、

（西経・東経）122度～154度の位置にある。例えば、東京はおよそ（南緯・北緯）36度、（西経・東経）140度にある。



2, 地球儀の1～5の番号に入る言葉を下のなかから選んでください。

1 ( ) 2 ( ) 3 ( )

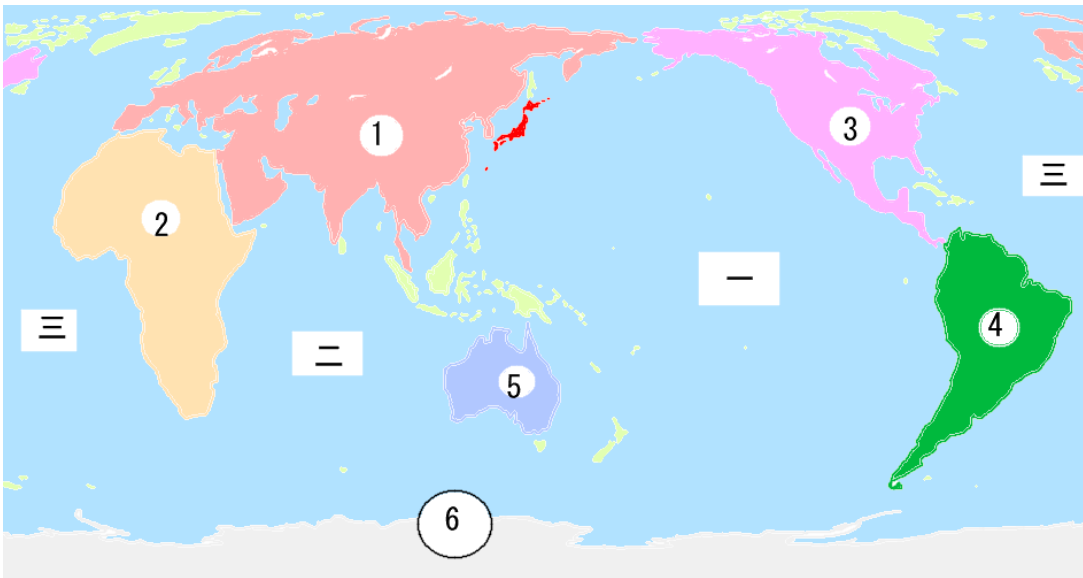
4 ( ) 5 ( )

東経（とうけい）、南緯（なんい）、西経（せいけい）、北緯（ほくい）、赤道（せきどう）

3, 自分の住んでいる市や町のおよその緯度と経度を調べてください。

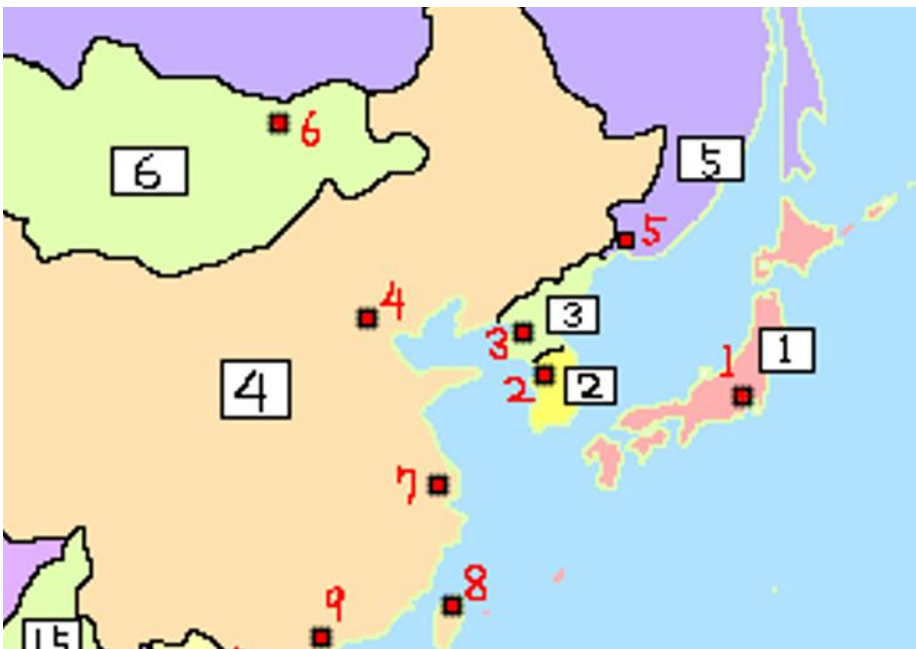
2, 世界の海洋と大陸

1, 次の大陸1～6の名前と、海洋一～三の名前を教えてください。



- ① ( ) 大陸      ② ( ) 大陸      ③ ( ) 大陸  
 ④ ( ) 大陸      ⑤ ( ) 大陸      ⑥ ( ) 大陸  
 一 ( ) 洋      二 ( ) 洋      三 ( ) 洋

2, 日本のまわりの国(1～6)・都市(1～9)の名前を教えてください。



国の名前

- 1 ( )  
 2 ( )  
 3 ( )  
 4 ( )  
 5 ( )  
 6 ( )

都市の名前

- 1 ( )  
 2 ( )  
 3 ( )  
 4 ( )  
 5 ( )

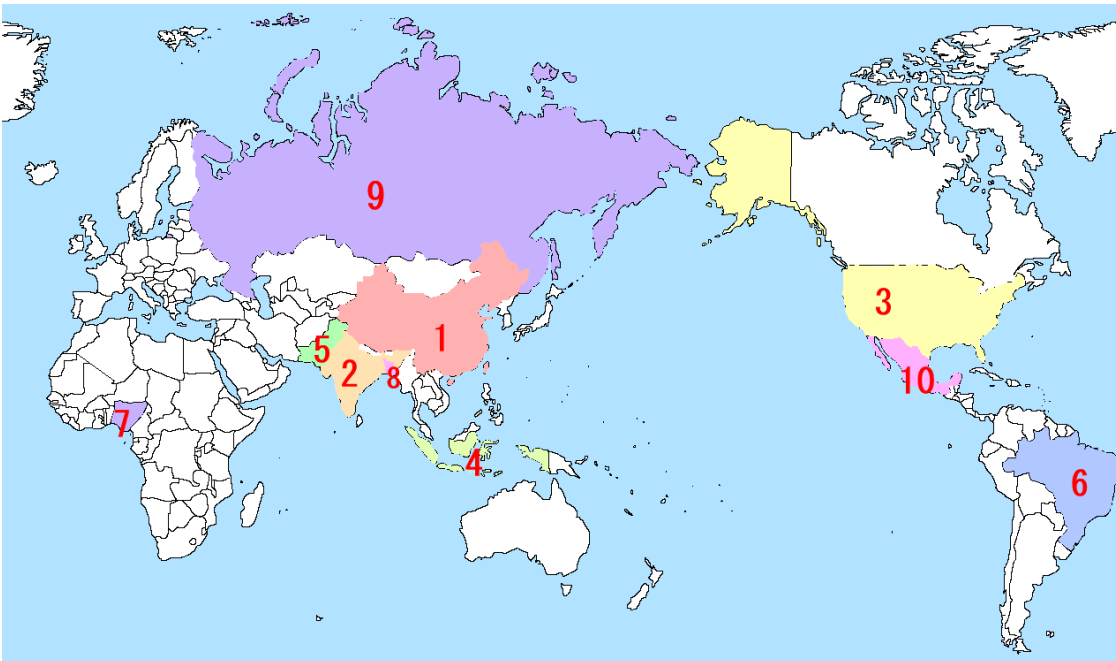
- 6 ( )      7 ( )      8 ( )      9 ( )

3, 面積が大きい国について、1～10の国に色をぬってください。



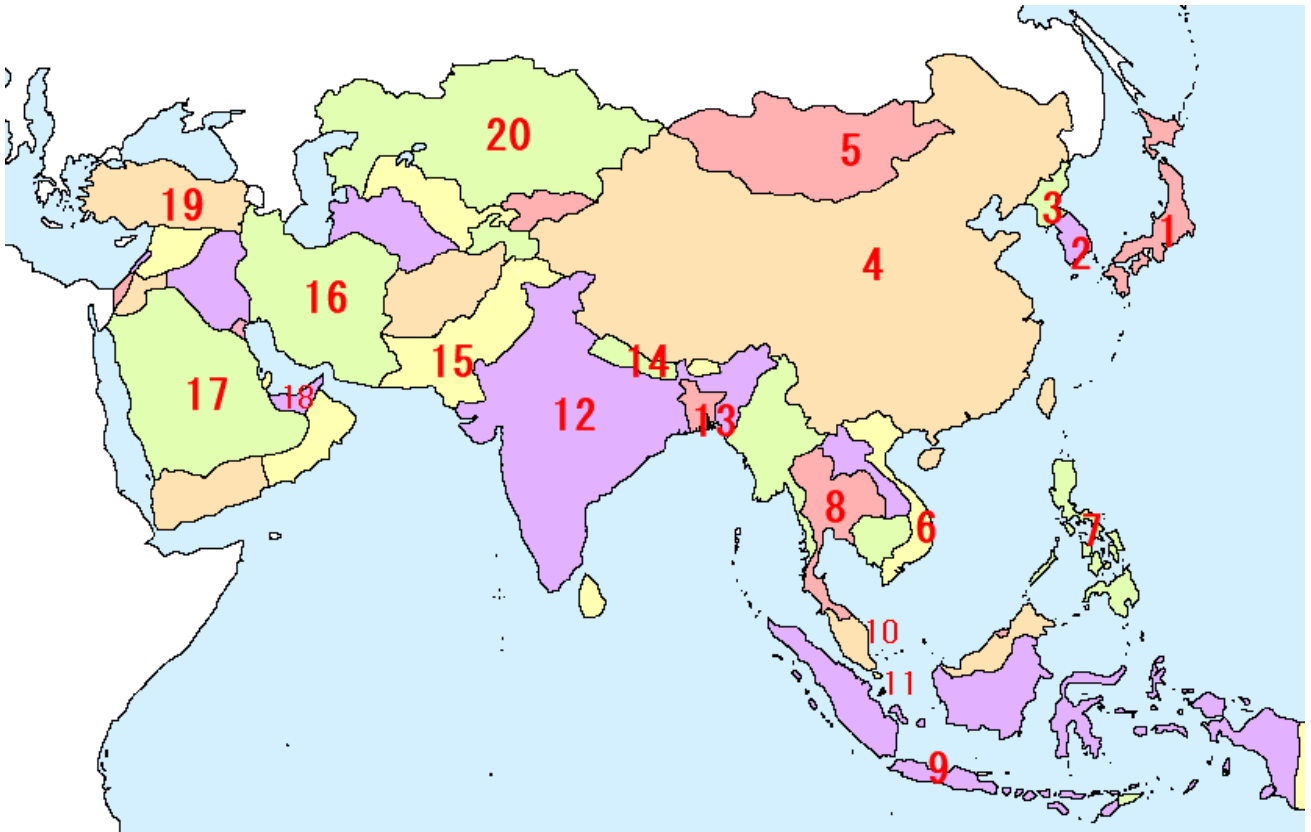
- 1 ロシア (青色)    2 カナダ (ピンク色)    3 アメリカ (オレンジ色)    4 中国 (黄色)  
5 ブラジル (緑色)    6 オーストラリア (こん色)    7 インド (緑色)  
8 アルゼンチン (青色)    9 カザフスタン (黄緑色)    10 アルジェリア (黄色)

4, 人口が多い国について、1～10の国の名前を答えてください。



- 1 (            )    2 (            )    3 (            )    4 (            )  
5 (            )    6 (            )    7 (            )    8 (            )  
9 (            )    10 (            )

5, アジアの国について、1～20の国の名前を教えてください。



1	2	3	4
5	6	7	8
9	10	11	12
13	14	15	16
17	18	19	20

ヒント

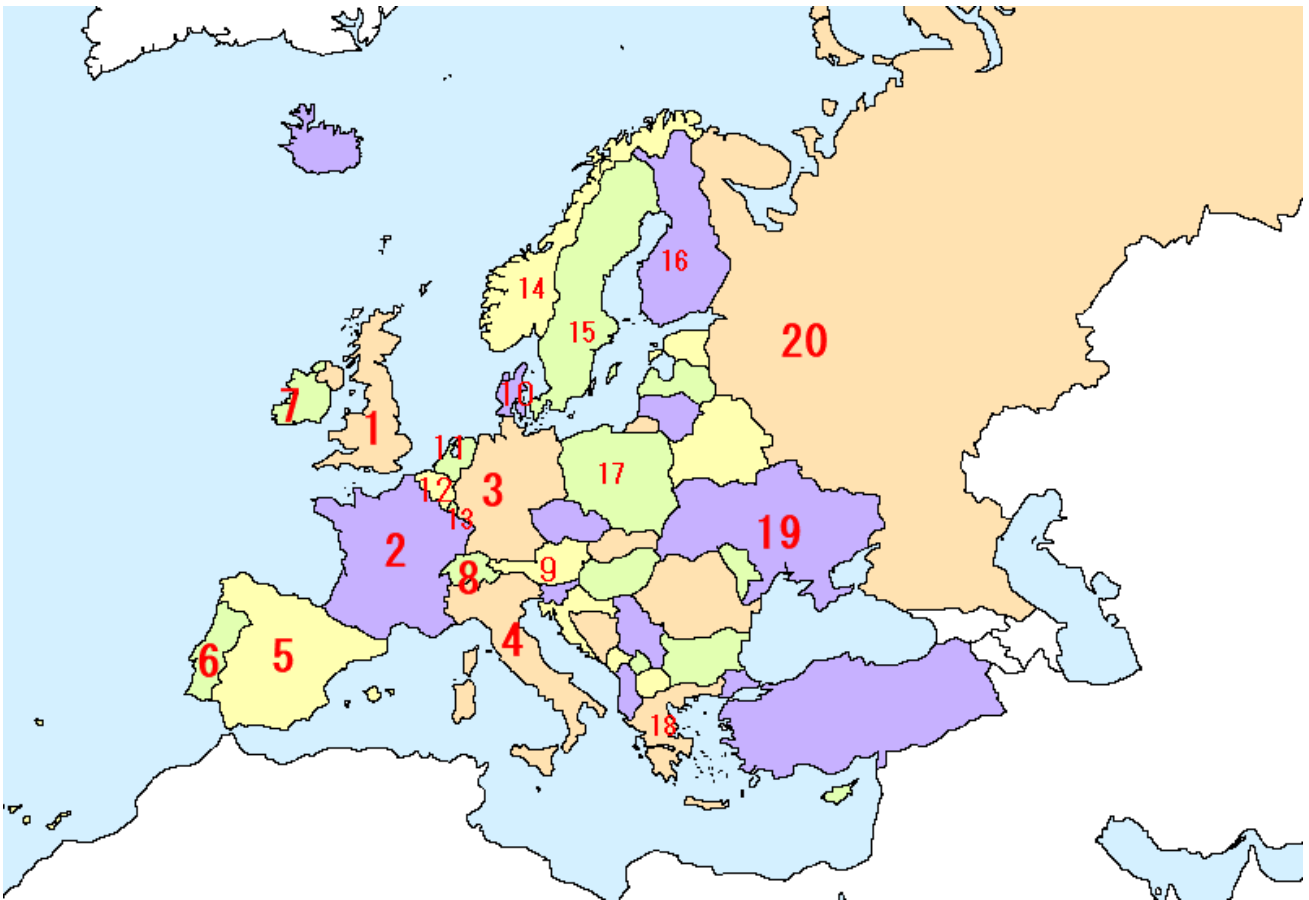
10 はオレンジ色の国。大陸のところと島のところの両方があるよ。

11 は日本の淡路島ほどの大きさの都市。

14 は世界で最も高い山エベレストがある国

18 は高層ビルの多いドバイなどの都市がある国。

6, ヨーロッパの国について、次の1~20国を答えてください。



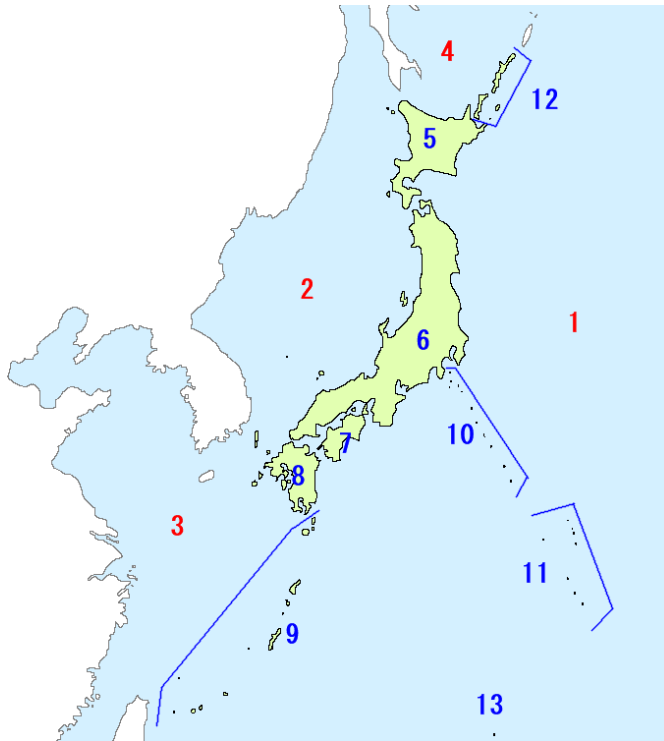
1	2	3	4
5	6	7	8
9	10	11	12
13	14	15	16
17	18	19	20

ヒント

1は鉄道が生まれた国、英語はこの国の言葉。2は芸術とワインが有名 3は自動車やソーセージが有名な国 4はピザやパスタなど食べ物で有名 5はバリエアなど魚や貝の料理、サッカーが強い国 6は戦国時代に日本と貿易していた国 8はアルプスの山とチーズが有名 9はクラシック音楽が有名だが、オーストラリアに間違えられやすい 10はアンデルセンの出身、LEGO ブロックも生まれた。11 風車とチューリップで有名。江戸時代の日本と貿易を続けた国 12 はチョコレートやワッフルなどお菓子が有名 14 はサーモンの養殖、氷河とムクの「叫び」で有名な国 15 はイケアやボルボ、H&M など有名な企業が多い国 16 はサンタクロースがいる国

3, 日本の国土の特色

1, 日本について、次の1~4の海と5~13の島の名前を教えてください。



海の名前

- 1 ( )
- 2 ( )
- 3 ( )
- 4 ( )

島の名前

- 5 ( ) 6 ( )
- 7 ( ) 8 ( )
- 9 ( )
- 10 ( )
- 11 ( )
- 12 ( )
- 13 ( )

2, 日本の領域について、次のカッコ内の正しい方に○をつけてください。

- ① 日本の北のはしが ( そうやみさき 宗谷岬・えとろふとう 択捉島 )、南のはしが ( みなみとりしま 南鳥島・おきのとりしま 沖ノ鳥島 )、西のはしが ( みなみだいとうじま 南大東島・よなぐにじま 与那国島 )、東のはしが ( おきのとりしま 沖ノ鳥島・みなみとりしま 南鳥島 ) です。
- ② 北海道にある ( せんかくしやとう 尖閣諸島・ほつぽうりやうど 北方領土 ) はロシアが占領したまま、日本に返還されていません。また竹島も韓国が占拠したままになっています。

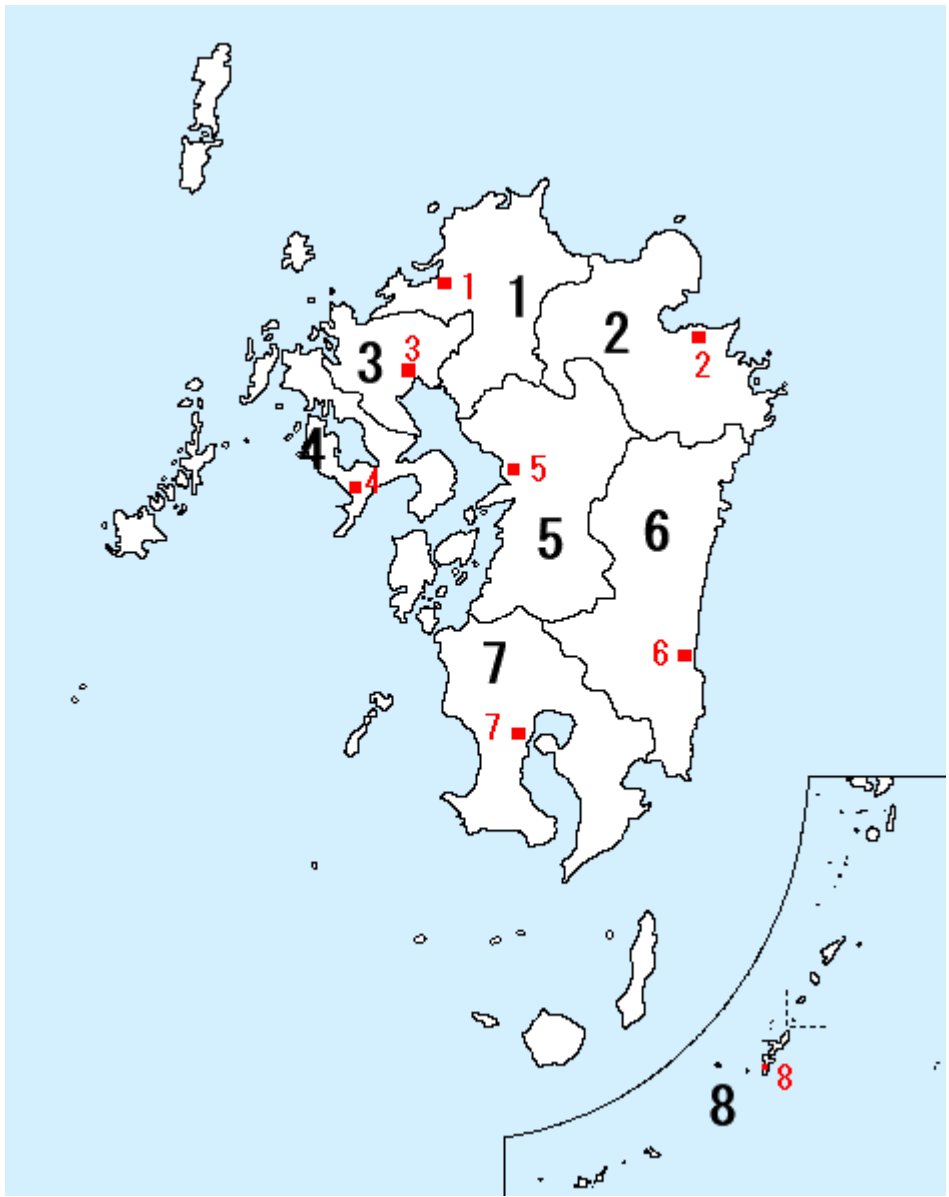
3, 日本の地形について、次のカッコ内の正しい方に○をつけてください。

- ① 日本の国土の約 (  $\frac{1}{4} \cdot \frac{3}{4}$  ) が山地でできています。
- ② 日本の平野は、川が運んでできた (土や砂・岩やがれき) が積もってできた土地が多いです。
- ③ 日本の川は、外国の川とくらべて (長く・短く) て流れが (ゆるやか・急) な特徴があります。
- ④ 日本は、まわりを海に囲まれ、(季節風・海流) の影響を受けています。

4, 日本の地方について、次のカッコ内に語句を入れてください。

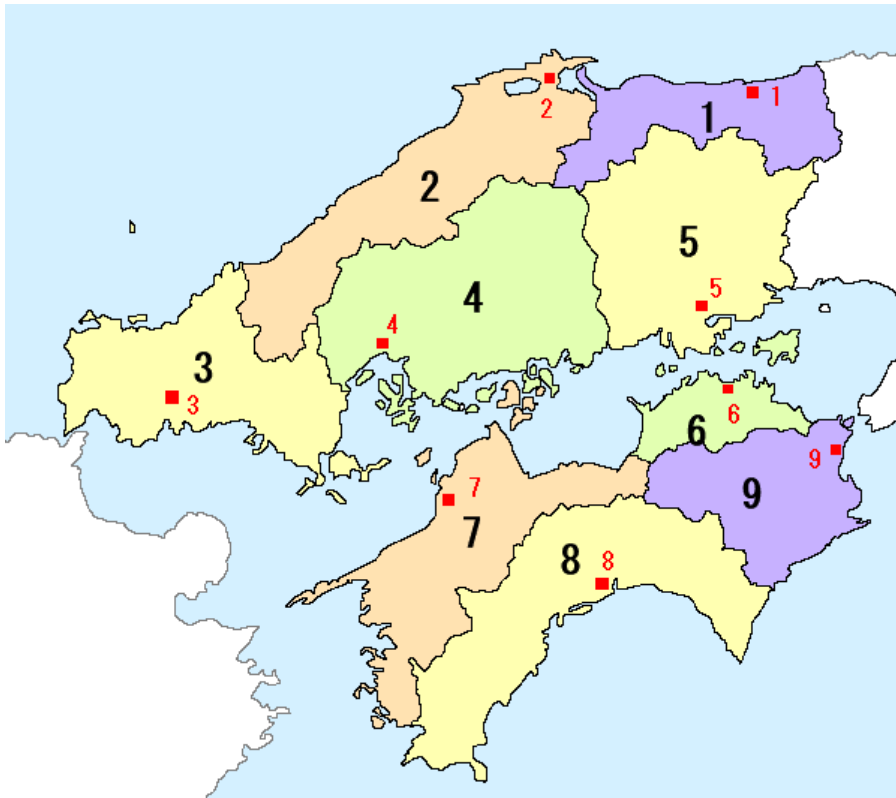
- ① 日本の地方は、北から順に( )・( )・( )・( )・( )・( )・( )・( )の8つ地域に区別されます。
- ② 日本の人口は、北から順に( )・( )・( )の三大都市圏に集中しています。

5, 九州地方について、県名1~8と県庁所在地名1~8を教えてください。



- 1 ( ) 県
- 1 ( ) 市
- 2 ( ) 県
- 2 ( ) 市
- 3 ( ) 県
- 3 ( ) 市
- 4 ( ) 県
- 4 ( ) 市
- 5 ( ) 県
- 5 ( ) 市
- 6 ( ) 県
- 6 ( ) 市
- 7 ( ) 県
- 7 ( ) 市
- 8 ( ) 県
- 8 ( ) 市

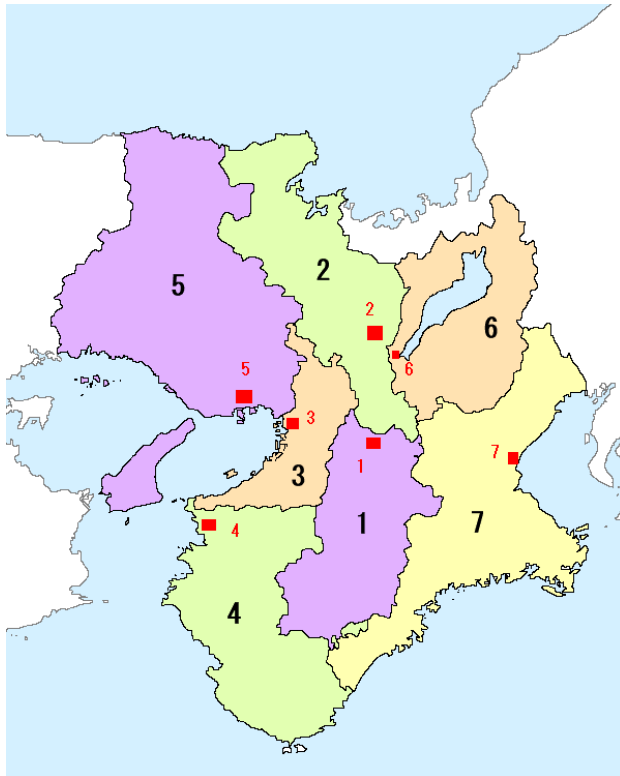
6, 中国地方、四国地方について、県名 1~9 と 県庁所在地 1~9 を教えてください。



- 1 (            ) 県
- 1 (            ) 市
- 2 (            ) 県
- 2 (            ) 市
- 3 (            ) 県
- 3 (            ) 市
- 4 (            ) 県
- 4 (            ) 市
- 5 (            ) 県
- 5 (            ) 市
- 6 (            ) 県
- 6 (            ) 市
- 7 (            ) 県
- 7 (            ) 市
- 8 (            ) 県
- 8 (            ) 市
- 9 (            ) 県
- 9 (            ) 市

**\* 2, 6, 7 は県名と県庁所在地の名前がちがいます。**

7, 近畿地方について、府県名 1~7 と 県庁所在地 1~7 を教えてください。

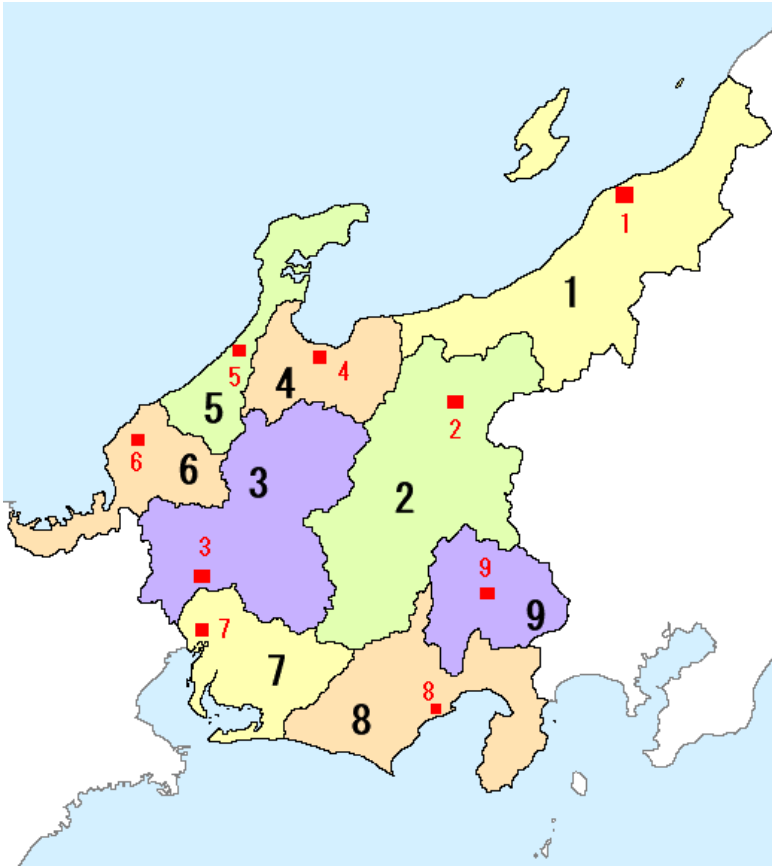


- 1 (            ) 県    1 (            ) 市
- 2 (            ) 府    2 (            ) 市
- 3 (            ) 府    3 (            ) 市
- 4 (            ) 県    4 (            ) 市
- 5 (            ) 県    5 (            ) 市
- 6 (            ) 県    6 (            ) 市
- 7 (            ) 県    7 (            ) 市

**\* 5, 6, 7 は県名と県庁所在地の名前がちがいます。**



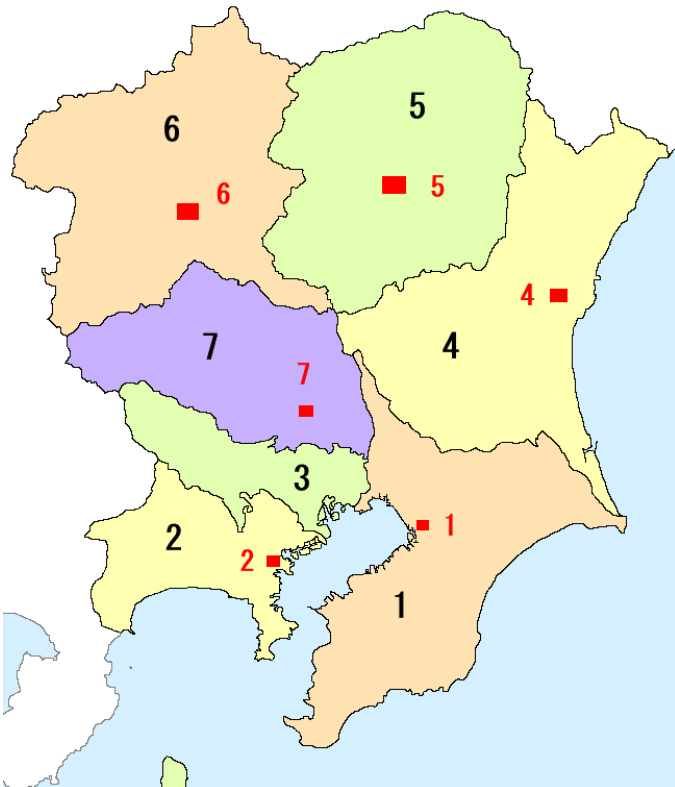
8, 中部地方について、県名 1～9 と 県庁所在地名 1～9 を教えてください。



- 1 (            ) 県 1 (            ) 市
- 2 (            ) 県 2 (            ) 市
- 3 (            ) 県 3 (            ) 市
- 4 (            ) 県 4 (            ) 市
- 5 (            ) 県 5 (            ) 市
- 6 (            ) 県 6 (            ) 市
- 7 (            ) 県 7 (            ) 市
- 8 (            ) 県 8 (            ) 市
- 9 (            ) 県 9 (            ) 市

\* 5, 7, 9 は県名と県庁所在地の名前がちがいます。

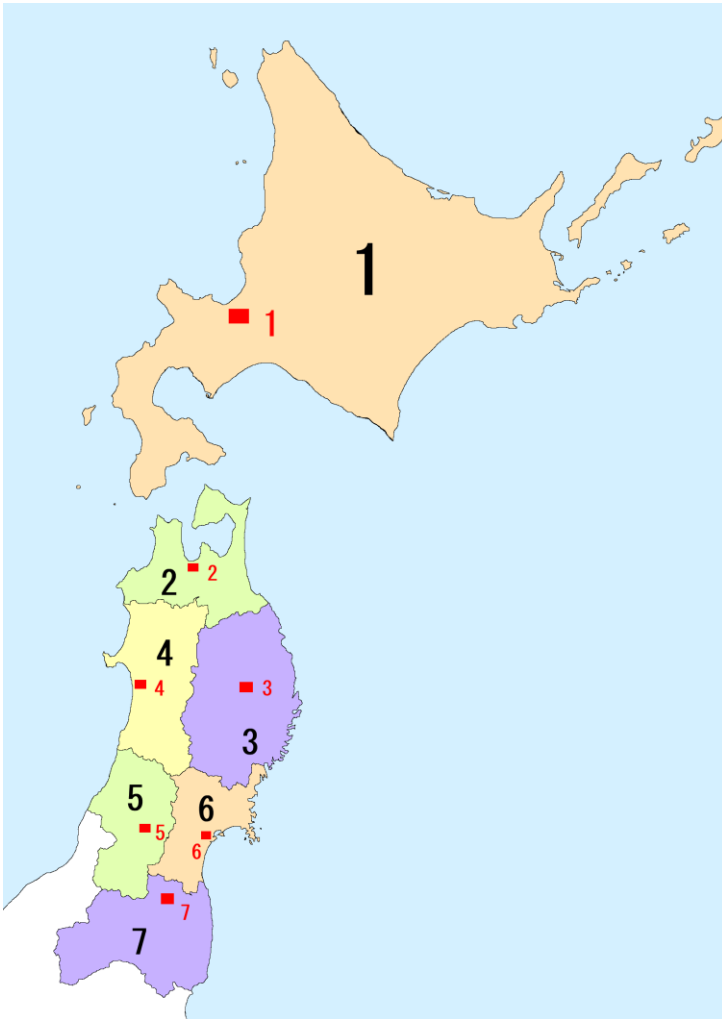
9, 関東地方について、都・県名 1～7 と 県庁所在地名 1～7 を教えてください。



- 1 (            ) 県 1 (            ) 市
- 2 (            ) 県 2 (            ) 市
- 3 (            ) 都
- 4 (            ) 県 4 (            ) 市
- 5 (            ) 県 5 (            ) 市
- 6 (            ) 県 6 (            ) 市
- 7 (            ) 県 7 (            ) 市

\* 2, 4, 5, 6 は県名と県庁所在地名がちがいます。

10, 東北地方、北海道について、道・県名 1～7 と 県庁所在地名 1～7 を教えてください。



- 1 (            ) 道 1 (            ) 市  
 2 (            ) 県 2 (            ) 市  
 3 (            ) 県 3 (            ) 市  
 4 (            ) 県 4 (            ) 市  
 5 (            ) 県 5 (            ) 市  
 6 (            ) 県 6 (            ) 市  
 7 (            ) 県 8 (            ) 市

\* 1, 3, 6 は道・県名と県庁所在地名がちがいます。

各地方の大きさ

順位	地方名	面積 (km <sup>2</sup> )
1	北海道地方	約 8 万 3420
2	東北地方	約 6 万 6950
3	中部地方	約 6 万 6800
4	九州地方	約 4 万 4510
5	近畿地方	約 3 万 3120
6	関東地方	約 3 万 2430
7	中国地方	約 3 万 1920
8	四国地方	約 1 万 8800