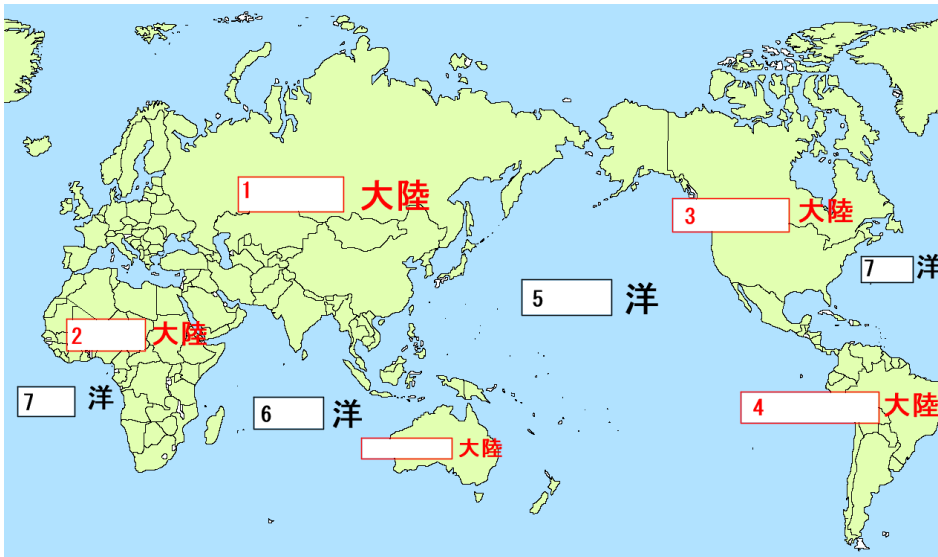


中学地理 世界のすがた (解答)

要点チェック (レベル1)

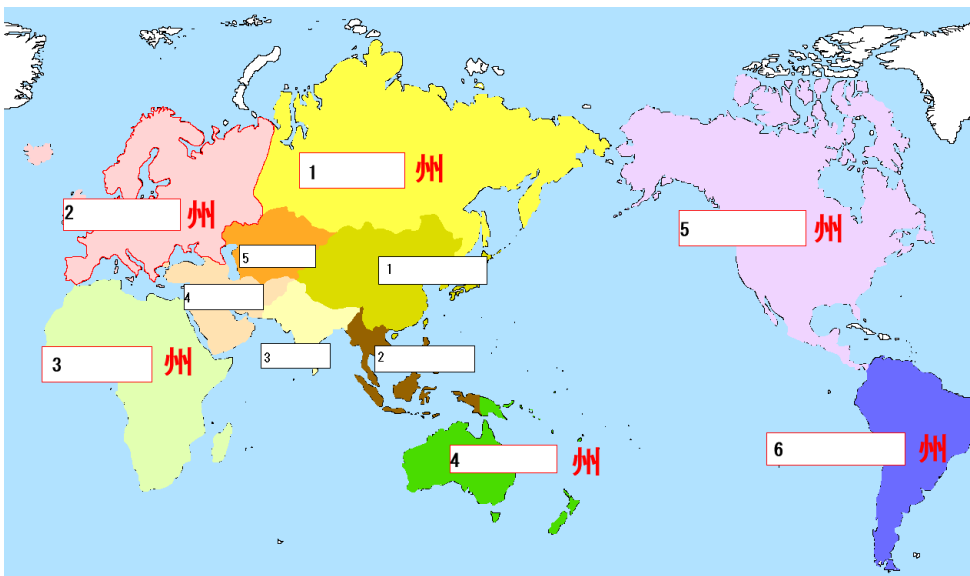
地球の表面は陸地と海洋からなり、陸地：海洋=(1 3 : 7)で(2 陸地)のほうが広い。六大陸のうち最大は(3 ユーラシア大陸)で、最も広い海洋は(4 太平洋)である。世界の国と地域は、6つの州に分かれる。うちアジア州は東から(5 東アジア)、(6 東南アジア)、(7 南アジア)、(8 中央アジア)、(9 西アジア)からなる。

・六大陸と三海洋の名前を答えなさい (太平洋と大西洋の漢字ミスに注意)



1 ユーラシア大陸
2 アフリカ大陸
3 北アメリカ大陸
4 南アメリカ大陸
5 太平洋
6 インド洋
7 大西洋
8 オーストラリア大陸
9 南極大陸

・6つの州と5つのアジアの名前を答えなさい。



1 アジア州
1 東アジア
2 東南アジア
3 南アジア
4 西アジア
5 中央アジア
2 ヨーロッパ州
3 アフリカ州
4 オセアニア州
5 北アメリカ州
6 南アメリカ州

世界には 190 余りの国があり、面積が大きい国、人口が多い国、周りを海に囲まれた(10 海洋国(島国))、海に面していない(11 内陸国)がある。国と国のさかいを(12 国境)をいい、自然地形や緯線・経線を利用した国境線がある。面積が最も小さい国は(13 バチカン市国)である。

面積が大きい国	人口が多い国 (2019 年時点)
1 位(ロシア)	1 位 (中国)
2 位(カナダ)	2 位 (インド)
3 位(アメリカ合衆国)	3 位 (アメリカ合衆国)
4 位 中国	4 位 インドネシア
5 位 ブラジル	5 位 パキスタン

・次の国は海洋国か内陸国か、答えなさい。

フィリピン(海洋国) モンゴル(内陸国) キューバ(海洋国)
 スイス(内陸国) 日本(海洋国) パラグアイ(内陸国)

国旗の特徴

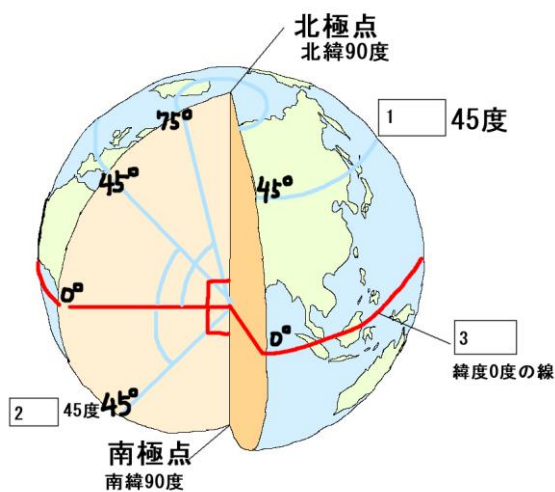
オーストラリア、ニュージーランドなどの国の国旗は、かつて(14 イギリス)の植民地だったため、5の国旗がはいっている。トルコ、パキスタンなど(15 イスラム)教徒の多い国では、国旗に三日月と星がはいっている。

国名の由来

- (16 エクアドル)：スペイン語の赤道という意味の言葉から。
- (17 コロンビア)：アメリカ大陸に訪れた探検家の名前から。
- (18 インド)：大河という意味のインダス川から。

地球のさまざまな国や都市の位置は、(19 緯度)と(20 経度)で表すことができる。

19は(21 赤道)を0度とし、最大は北極までの90度、南極までの90度までを表す。同じ10を結んだ線を緯線という。

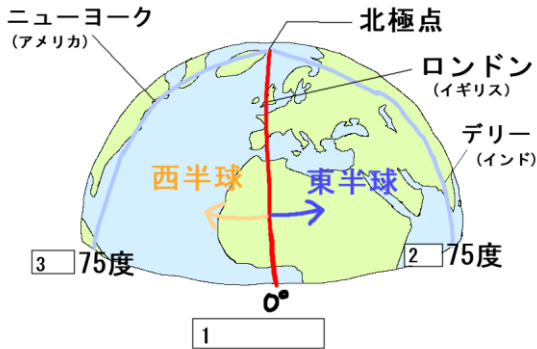


*左の図1～3にあてはまる語句を答えなさい。

1	北緯
2	南緯
3	赤道

20 はイギリスのロンドンを通る(22 **本初子午線**)を 0 度とし、最大は東西にそれぞれ 180 度までを表す。同じ 20 を結んだ線を経線という。

*左の図の 1～3 に適切な語句を書きなさい。



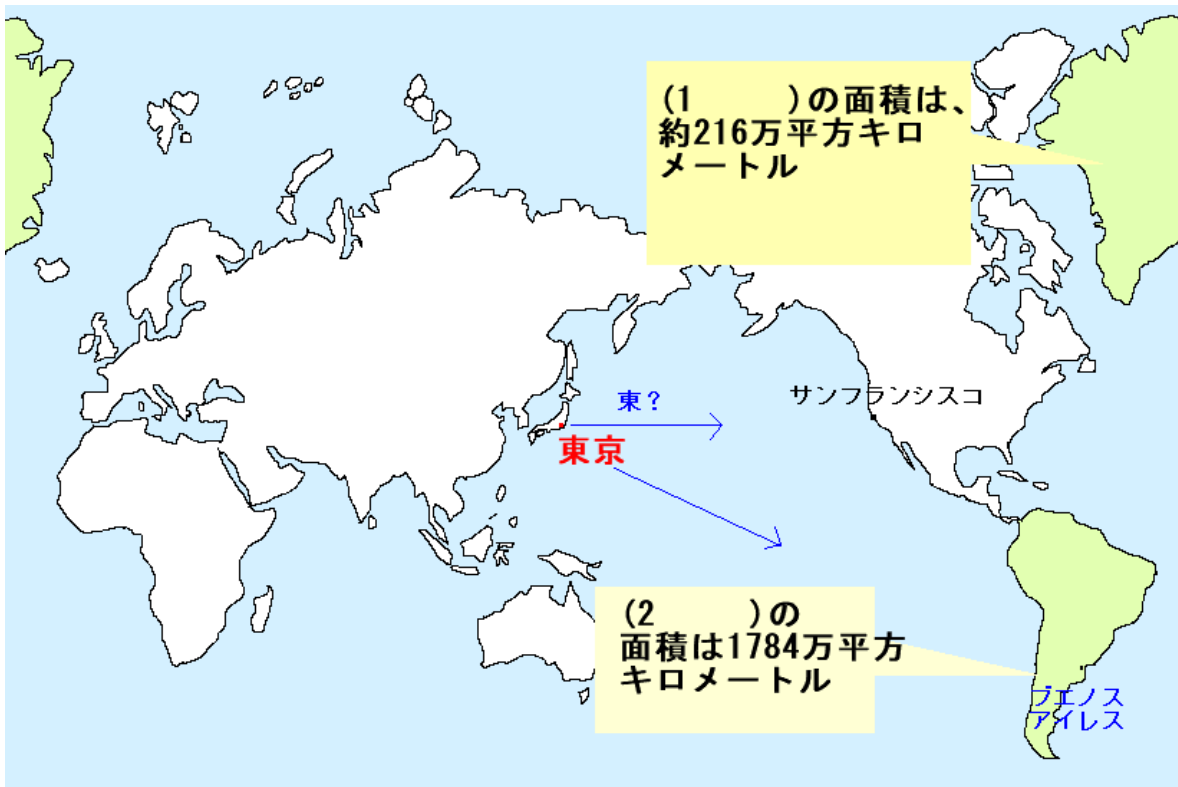
1	本初子午線
2	東経
3	西経

東京の位置は、およそ(23 **北緯**)36 度、(24 **東経**)140 度と表す。

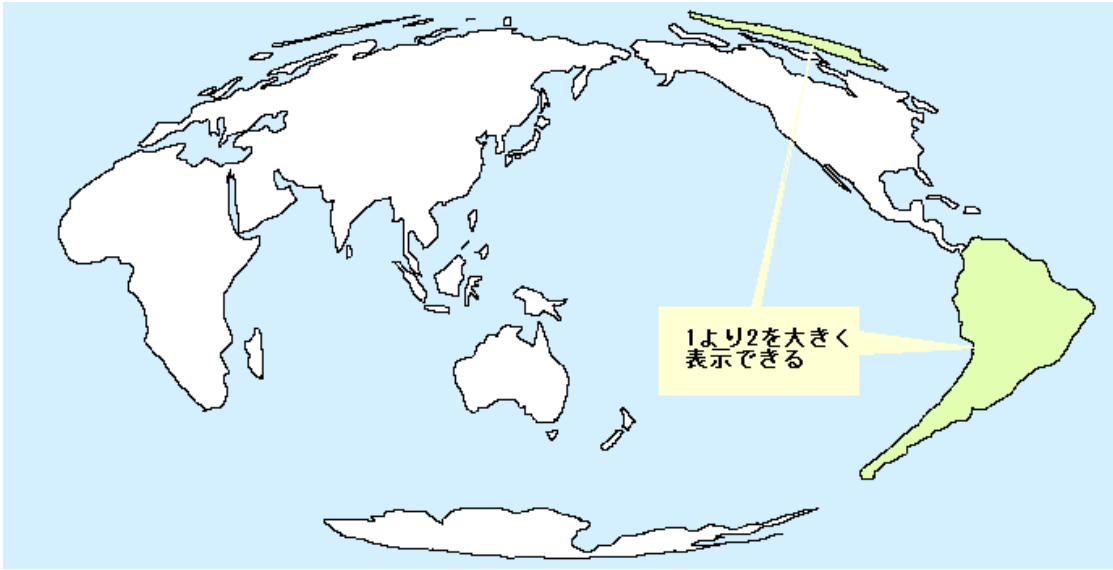
地球をそのまま縮めた模型が(25 **地球儀**)で、面積・距離・方位など正しく表している。一方、平面の世界地図はそれらを一度に正しく表すことが(26 **できない**)ため、目的に応じて使い分ける必要がある。

緯線と経線が直角に交わる地図：(27 **角度**) が正しい地図
 (28 **航海図**) として使われる。ただし、面積と方位が正しくない。

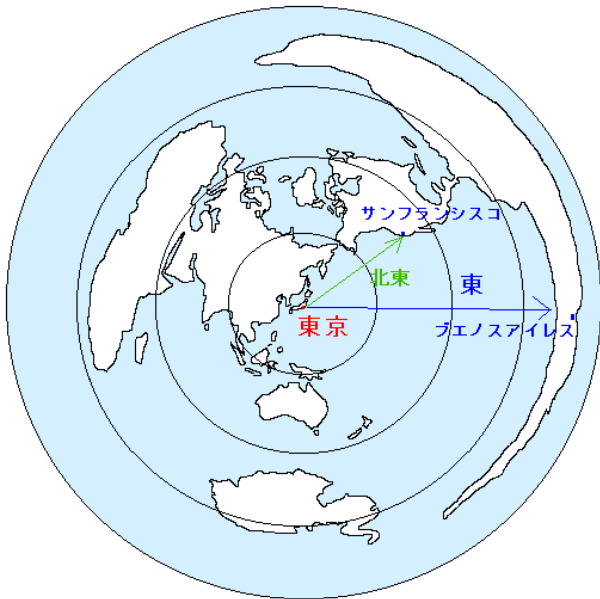
* 1 の島と 2 の大陸を答えなさい。 1 **グリーンランド** 2 **南アメリカ大陸**



(29 面積)が正しい地図：分布図に使われる



「中心」からの(30 距離)と(31 方位)が正しい地図
(32 航空図)として使われる



東京の東は (33 ブエノスアイレス)
サンフランシスコは東京から (34 北東)
の方位にある。

*地図の中心の都市によって、地図の形が変わります！

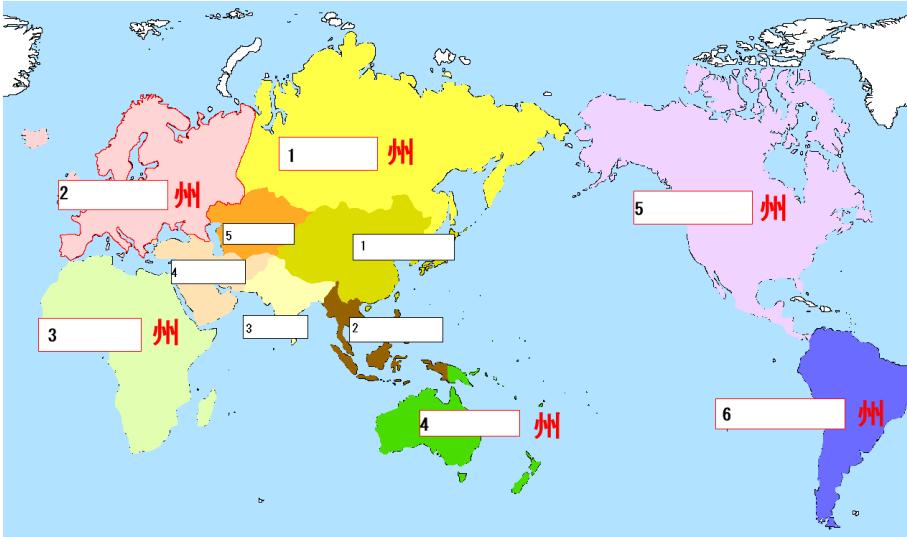
日本でも那覇中心と千歳中心では、地図の形が違います。

方位の書き方

明治より前は、東北・東南という言い方をしていましたが、現在では北東、南東と言います。
東南アジア、東北地方、など地名には伝統的な言い方が残っています。

確認問題

- 問1 地球上の陸地と海洋では、どちらの面積が広いか。
- 問2 六大陸のうち、面積が最も大きい大陸は何か。
- 問3 六大陸のうち、面積が最も小さい大陸は何か。
- 問4 三大洋のうち、面積が最も大きい海洋は何か。
- 問5 地図中①～⑥の州名を答えなさい。また、1～5のアジアも答えなさい。



- 問6 周りを海に囲まれた国を何というか。
- 問7 海に面していない国を何というか。
- 問8 面積が最も大きい国はどこか。
- 問9 面積が最も小さい国はどこか。
- 問10 オセアニア州の国々の国旗には、ヨーロッパのどの国の国旗が含まれているか。
- 問11 国旗に星と三日月が描かれている国の国旗は、何教の信者が多いか。
- 問12 スペイン語で赤道という意味から名づけられた国はどこか。
- 問13 世界のさまざまな国や都市の位置は、何と何が交わった点で、表すことができるか。2つ答えなさい。
- 問14 緯度0度の緯線のことを、何というか。
- 問15 経度0度の経線のことを、何と言うか。
- 問16 15の線が通っている、イギリスの都市の名前を答えなさい。
- 問17 次の地図①～③は、面積、方位、角度、距離のうちどれが正しいか。それぞれ答えなさい。
(地図は次のページにある)

- 1 海洋
- 2 ユーラシア大陸
- 3 オーストラリア大陸
- 4 太平洋
- 5
- ①アジア州
- 1 東アジア
- 2 東南アジア
- 3 南アジア
- 4 西アジア
- 5 中央アジア
- ②ヨーロッパ州
- ③アフリカ州
- ④オセアニア州
- ⑤北アメリカ州
- ⑥南アメリカ州
- 6 海洋国（島国）
- 7 内陸国
- 8 ロシア
- 9 バチカン市国
- 10 イギリス
- 11 イスラム教
- 12 エクアドル
- 13 緯度・経度
- 14 赤道
- 15 本初子午線
- 16 ロンドン
- 17 次のページにあります

①



②



① 角度

② 中心からの距離・方位

③ 面積

③



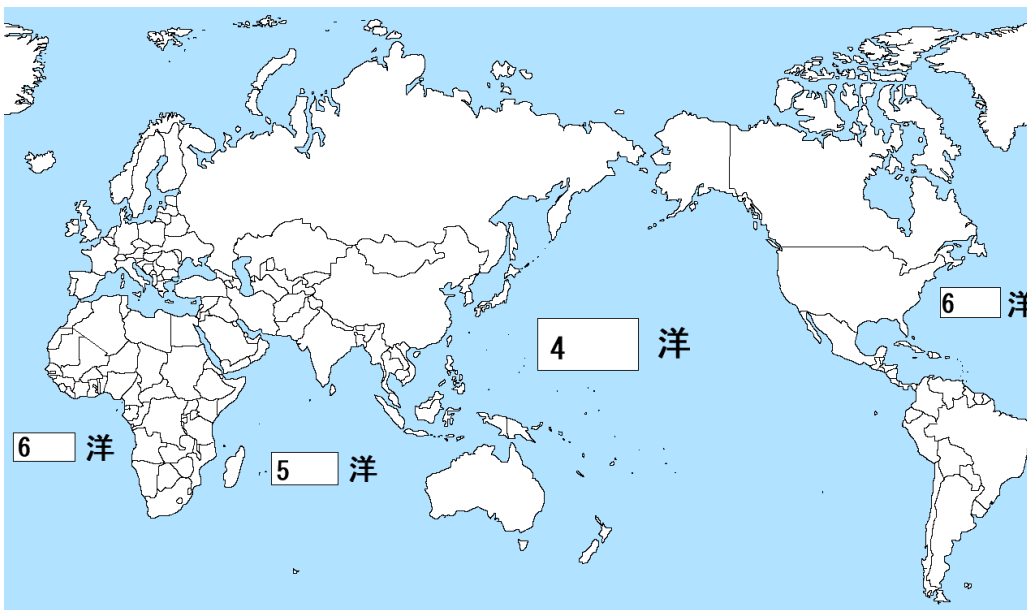
要点チェック (レベル2)

1, 世界の大陸と地域区分

陸：海 = (1 3 : 7) で海洋の方が広い

六大陸：(2 ユーラシア大陸) (最大)、北アメリカ大陸、南アメリカ大陸、アフリカ大陸、
(3 オーストラリア) (最小)、南極大陸、

海洋の名前 (太と大のミスに注意！)



4 太平洋

5 インド洋

6 大西洋

6つの州(アジアの地域名、他の州の名前を答えなさい)

アジア州	7 東アジア	日本、中国、モンゴルなど
	8 東南アジア	フィリピン、タイ、インドネシアなど
	9 南アジア	インド、ネパール、など
	10 西アジア	イラン、サウジアラビア、など
	11 中央アジア	カザフスタン、など
12 北アメリカ州	カナダ、メキシコ、キューバ、パナマなど	
13 南アメリカ州	ブラジル、ペルー、などラテンアメリカとも呼ばれる	
14 アフリカ州	エジプト、ケニア、ナイジェリア、マダガスカル、など	
15 オセアニア州	オーストラリア、ニュージーランド、南太平洋の島国	
16 ヨーロッパ州	イギリス、ドイツ、イタリア、など	

各州の国名すべてを覚える必要はないが、代表的な国名と位置は覚えておこう

2, 世界のいろいろな国

世界の国々：世界に 190 余りの国がある。

国境：国と国の境界を表す線

- ①山脈：アンデス山脈（チリとアルゼンチン）、ヒマラヤ山脈（中国とネパール）
- ②川：メコン川（タイとラオス）、アムール川（ロシアと中国）
- ③緯線・経線：北緯 49 度（アメリカとカナダ）、東経 25 度（エジプトとリビア）

・海洋国と内陸国

17 次のうち海洋国をすべて選びなさい。

インド、インドネシア、マダガスカル、タンザニア、韓国、日本、フランス、イギリス、
インドネシア マダガスカル 日本 イギリス

18 次のうち内陸国をすべて選びなさい。

ロシア、ウルグアイ、パラグアイ、モンゴル、パキスタン、アフガニスタン、スイス、ポーランド、
パラグアイ モンゴル アフガニスタン スイス

国名の由来

(19 コロンビア)：探検家の名前から名づけられた、南アメリカ州の国。

面積が大きい国と小さい国

(20 ロシア)：最も面積が大きい国

(21 バチカン市国)：面積が最も小さい国

3, 地球儀と世界地図

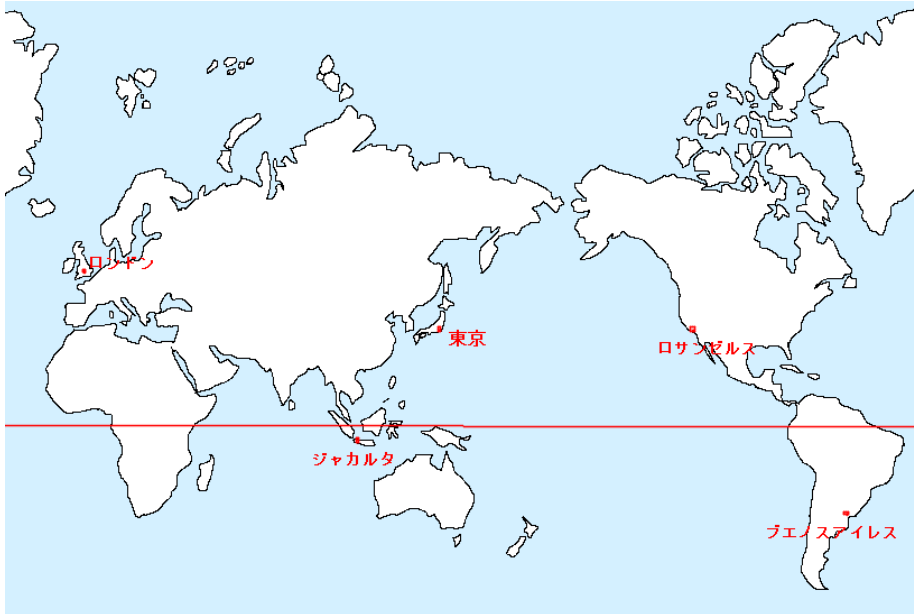
緯度…(22 赤道)を 0 度とし、地球を南北に 90 度ずつに分ける。22 から北極点までを(23 北)半球といい、22 から南極点までを(24 南)半球という。

経度…イギリスの(25 ロンドン)を通る(26 本初子午線)を 0 度とし、東西に 180 度ずつに分ける。

各都市の緯度と経度

東京 (日本)	(北緯) 35 度、(東経) 140 度
ジャカルタ (インドネシア)	(南緯) 6 度、(東経) 106 度
ロンドン (イギリス)	(北緯) 51 度、(経度) 0 度
ブエノスアイレス (アルゼンチン)	(南緯) 34 度、(西経) 58 度
ロサンゼルス (アメリカ)	(北緯) 34 度、(西経) 118 度

ヒント (緯度は北と南、経度は東と西、にわかる)



地球儀：地球を小さくした模型で、距離、面積、形、方位、など正しく表している。
ただし、一度に世界全体を見ることできない。持ち運びに不便。

世界地図：平面だからすべてを正しく表すことができない。目的によって使い分ける。

正距方位図法：中心からの (27 距離) と (28 方位) が正しい。(29 航空図) に使われる。

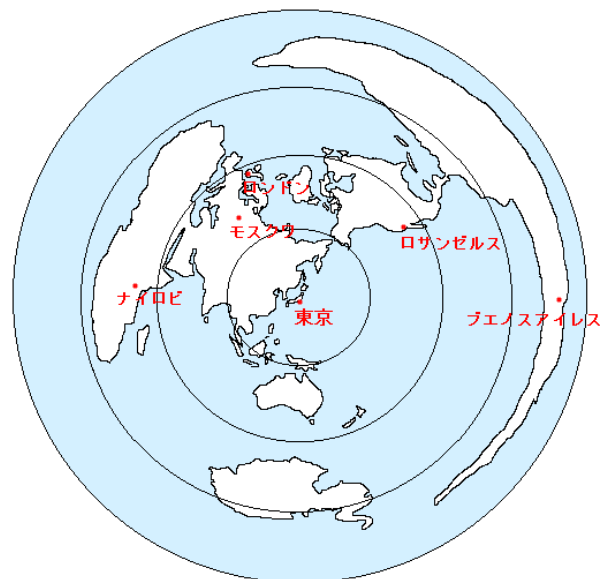
例：東京を中心にした地図

東京から東にある都市：(30 ブエノスアイレス)

東京から西にある都市：(31 ナイロビ)

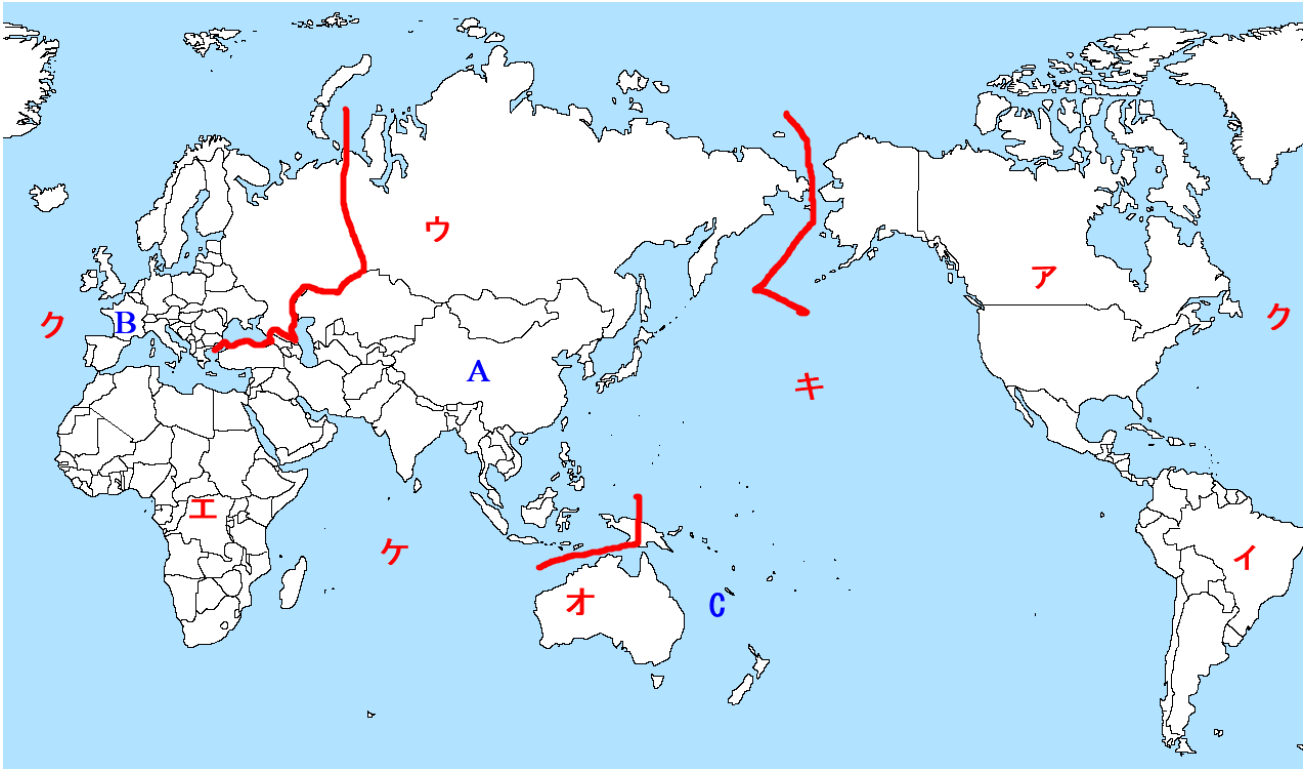
東京から最も遠い都市：(32 ブエノスアイレス)

東京を中心にある 3 つの円は、5000 km ごとの線



確認問題 (レベル3)

地図中のア～オの大陸名、キ～ケの海洋名、A～Cの州名を答えなさい。



ア 北アメリカ大陸	イ 南アメリカ大陸	ウ ユーラシア大陸	エ アフリカ大陸
オ オーストラリア大陸	キ 太平洋	ク 大西洋	ケ インド洋
A アジア州	B ヨーロッパ州	C オセアニア州	

- 問1 アジア州を5つに区分したとき、日本や中国が属する地域を何というか。
- 問2 アジア州を5つに区分したとき、タイやマレーシアが属する地域を何というか。
- 問3 アジア州を5つに区分したとき、インドやパキスタンが属する地域を何というか。
- 問4 同じ緯度を結んだ線を何というか。
- 問5 4の線のうち、緯度0度の線を特に何というか。
- 問6 同じ経度を結んだ線を何というか。
- 問7 6の線のうち、イギリスのロンドンを通る経度0度の線をとくに何というか。

- 1 東アジア
- 2 東南アジア
- 3 南アジア
- 4 緯線
- 5 赤道
- 6 経線
- 7 本初子午線