

## 中学地理 世界の気候と暮らし

### 要点チェック (レベル1)

#### 1, 熱帯

世界にはそれぞれの気候にあわせた暮らしがみられる。一年中高温の(1 )の気候は、南太平洋や東南アジア、南アメリカのアマゾン川流域など、(2 )に近い地域に多い。1は(5 )気候と(8 )気候に分かれる。

海岸には常緑樹の森林の(3 )がみられ、強い風をとまなう(4 )など雨が多い地域では高い木が多い森林の(5 )が広がる。伝統的な家は、(6 )や(7 )を逃がすため高床になっている。

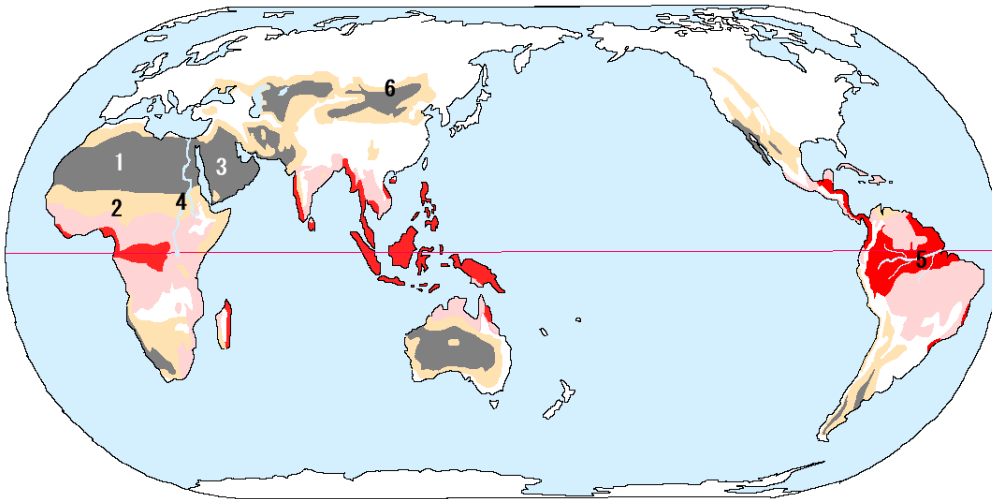
まばらに木が生え、草原がひろがる(8 )気候では、季節が(9 )と(10 )に分かれている。

#### 2, 乾燥帯

北アフリカのサハラ砂漠、アラビア半島、中央アジアなどの地域は、雨が少ない(11 )の気候が広がる。11は砂漠気候と(14 )気候に分かれる。

砂漠が広がる地域では、地中からの湧き水や地下水のある(12 )の周辺で農業を行っている。強い日差しをさけるため(13 )の家がみられる。少しだけ雨の降る(14 )気候では、短い草が生え、水や草をもとめて家畜とともに移動しながら生活する(15 )が行われている。

#### 熱帯と乾燥帯の地図 (地名を書きなさい)

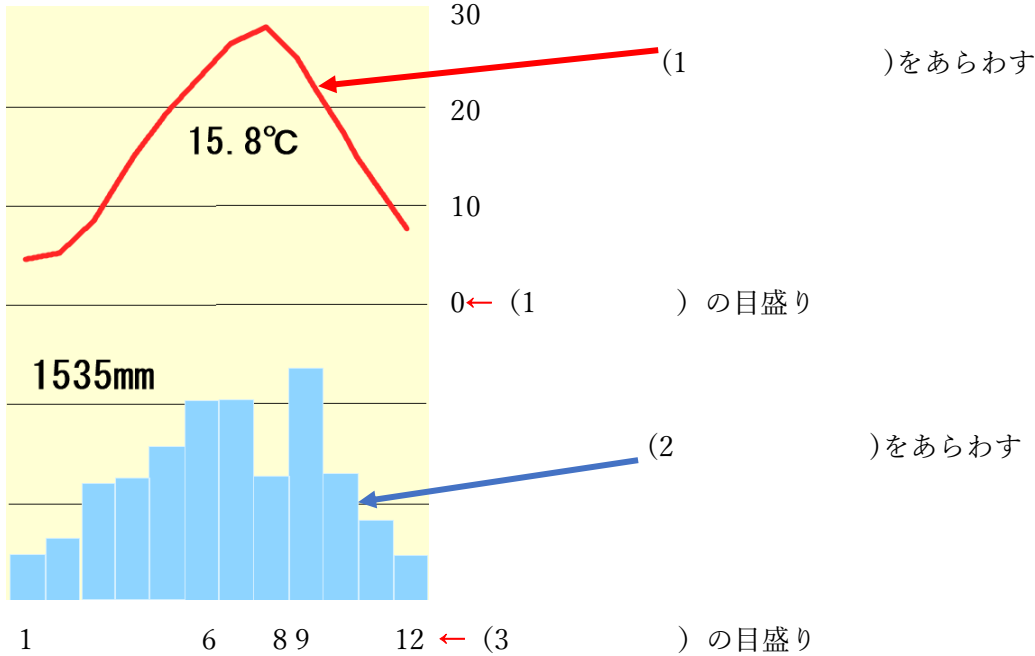


1	砂漠	2	3	半島	
4	川	5	川	6	高原

マングローブ、ステップ、乾燥帯、サバナ、湿気、遊牧、スコール、熱帯、熱帯雨林、熱さ、オアシス、赤道、雨季、日干しレンガ、乾季、

### 3. 雨温図の見方

一年間の月ごとの気温と降水量（雨や雪）をあらわしたグラフを雨温図という。折れ線グラフで表されるのが(1 )で、棒グラフで表されるのが(2 )である。この2つで地域ごとの気候の特徴を表すことができる。



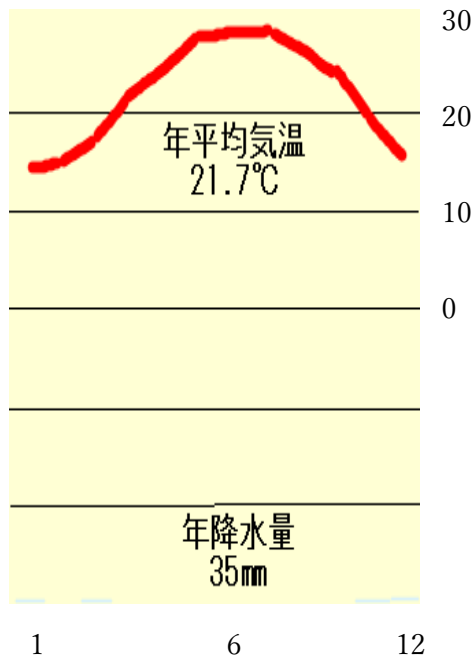

上の雨温図について

- ④ 平均気温が最も高い月は？ ( )      ⑤ 平均降水量が最も多い月は？ ( )
- ⑥ 平均気温が最も低い月は？ ( )

下の雨温図は、熱帯と乾燥帯のどちらか？

A ( )

B ( )



#### 4、温帯

温暖で春・夏・秋・冬の四季がある気候を(1 )という。1は、夏に乾燥する(2 )、冬でも気温が下がりにくい(3 )、四季がはっきりして年間通して雨が多い(4 )に分かれる。

2はイタリア、スペインなど地中海沿岸などに見られ、夏の乾燥に強い(5 )や(6 )を栽培し、家は日差しに耐えられるよう(7 )できており、窓は小さく壁が厚い。

3はアルプス山脈より北のヨーロッパの大部分の地域に見られ、(8 )や偏西風の影響で、高緯度でも冬は温暖である。

4は夏と冬の気温差がはっきりしており、雨が多いため(9 )が行われている。日本や東アジアなどに見られる。

#### 5、冷帯

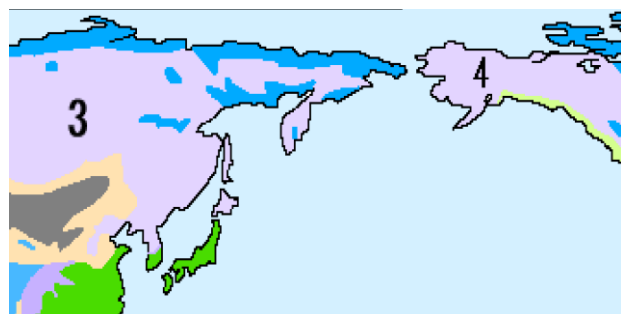
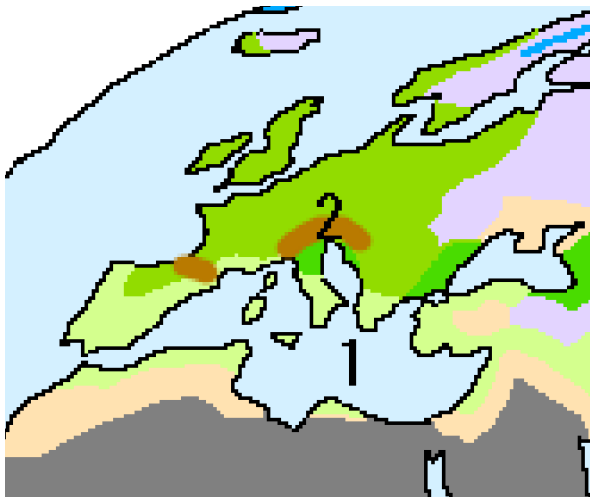
高緯度の冬の寒さが厳しい気候を(10 )という。ロシアのシベリアやカナダ北部には、針葉樹林の(11 )が広がり、地面は一年中凍った状態の(12 )が分布している。建物は暖房などの熱で(13 )を防ぐため高床になっている。

#### 6、寒帯

南極点や北極点の周辺で、年中寒さが厳しい気候を(14 )という。14は一年中雪や氷におおわれる(15 )と、夏にこけが生える(16 )に分かれる。

カナダやアラスカの先住民(17 )は伝統的な狩りや漁をするさい、(18 )という雪をれんが状に積み上げた小屋を作ったが、現在は町に定住している。冬の移動手段は、スノーモービルを使用している。

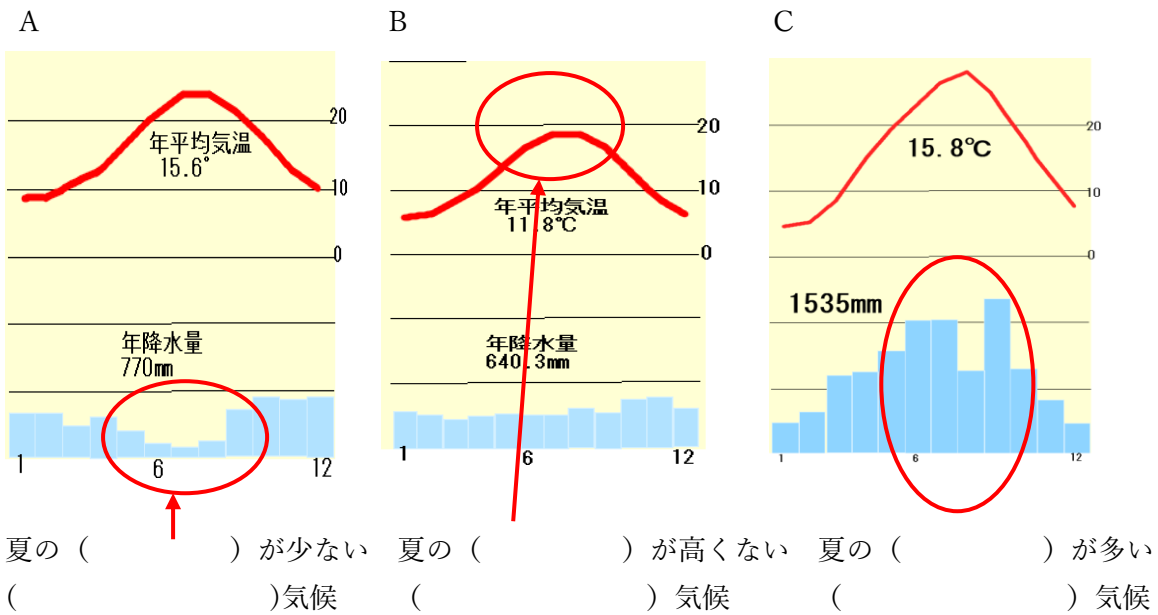
次の地名1～4を答えなさい。



1	海
2	山脈
3	
4	

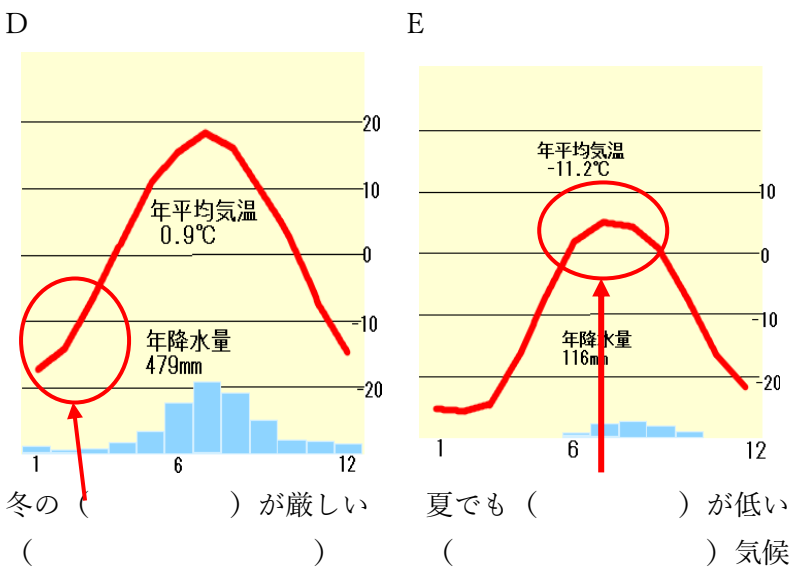
石づくり、イヌイット、冷帯、ツンドラ気候、タイガ、稲作、暖流、傾く、冰雪気候、永久凍土、西岸海洋性気候、温暖湿潤気候、ぶどう、温帯、寒帯、イグルー、地中海性気候、オリーブ、

7. 雨温図から気候を見分ける方法



①A~C の気候は次のうちどれか、書きなさい。

西岸海洋性気候、温暖湿潤気候、地中海性気候、



②D,E の気候は次のうちどれか、書きなさい。

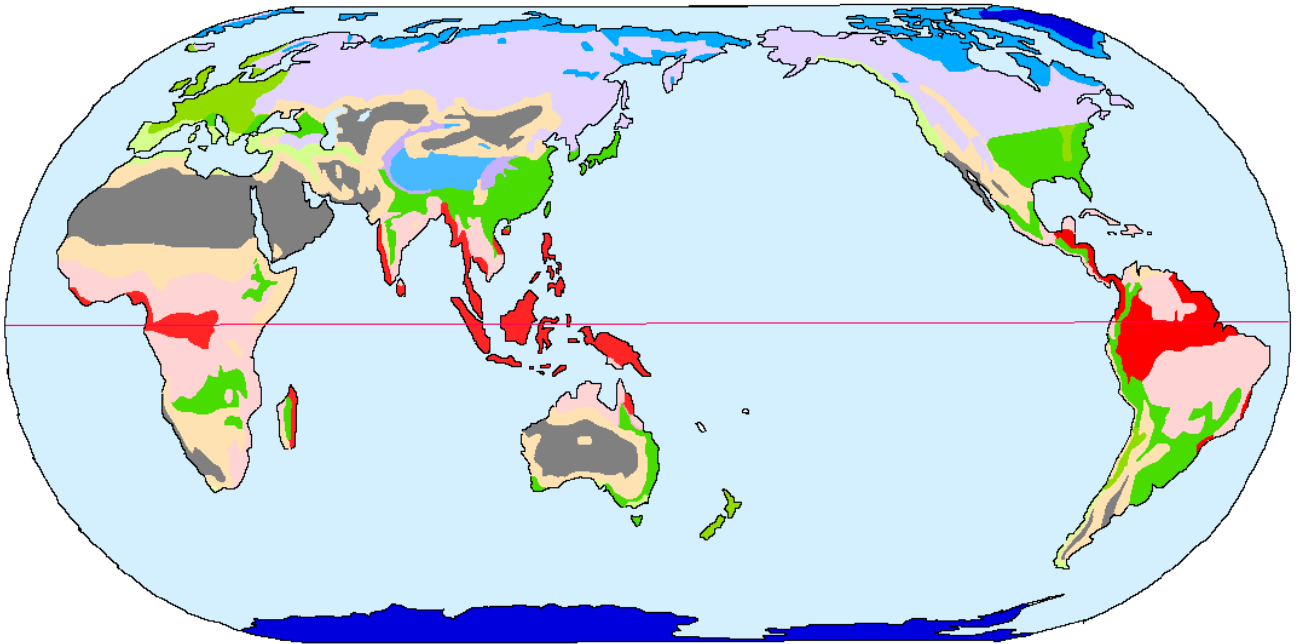
氷雪気候、ツンドラ気候、冷帯、











\* 雨温図によっては、年平均気温や年降水量を書いていない場合もあります。

確認問題

- 問1 南太平洋のサモアや東南アジアのインドネシアなどが属する気候を何というか。
- 問2 サモアの海岸にみられる常緑広葉樹の森林を何というか。
- 問3 1の地域で短時間に降る激しい雨を何というか。
- 問4 サハラ砂漠、アラビア半島、モンゴルなどが属する気候を何というか。
- 問5 サハラ砂漠より南に広がる草原地帯を何というか。
- 問6 5などの地域では、どのような材料でできた家が見られるか。
- 問7 5などの地域では、どのような場所で農業を行っているか。
- 問8 モンゴルなどの、家畜とともに草や水を求めて移動する営みを何というか。
- 問9 インドネシアやアマゾン川流域などで見られる、背の高い樹木がうっそうと茂る森林を何というか。
- 問10 インドネシアやマレーシアで見られる伝統的な家は、なぜ床が高くなっているのか、理由を答えなさい。
- 問11 ヨーロッパや日本など、温暖で四季がある気候を何というか。
- 問12 11のうち、イタリアやスペインなど夏に乾燥する気候を何というか。
- 問13 12の気候は日差しが強いため伝統的な家は、涼しく過ごすため、どのような特徴があるか、2つ答えなさい。
- 問14 12の気候で、栽培されている作物を2つ答えなさい。
- 問15 ロシアのシベリアなど、寒さが厳しい地域で見られる、一年中凍った状態の土壌を何というか。
- 問16 カナダ北部のかつて狩猟や漁で生活していた人々を何というか。
- 問17 16の人々が最近、犬ぞりに代わって移動手段に使っているものを何というか。
- 問18 アンデスの高地で飼育されている家畜を2種類答えなさい。
- 問19 アンデスの高地で人々の主食は、何か。
- 問20 一年中高温で降水量の多い気候帯を何というか。
- 問21 20のうち季節が乾季と雨季に分かれる気候と何というか。
- 問22 雨が少なく砂漠や草原が広がる気候帯を何というか。
- 問23 22のうちモンゴルのような短い草原の広がる気候を何というか。
- 問24 温暖で四季の変化がはっきりしている気候帯を何というか。
- 問25 寒さが厳しく夏と冬の気温差が大きい気候帯を何というか。
- 問26 寒帯のうち夏に「こけ」が生える気候を何というか。

次の地図中 A~I にあてはまる気候を答えなさい。



	A		C		E
	F		H		氷雪気候
	B		I		
	G		D		

A	B	C	D
E	F	G	H
I			

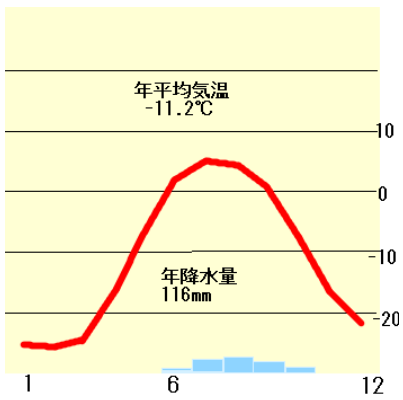
ツンドラ気候、地中海性気候、冷帯、ステップ気候、サバナ気候、熱帯雨林気候、温暖湿潤気候、西岸海洋性気候、砂漠気候、

気候帯：温帯・熱帯などの広い名称。

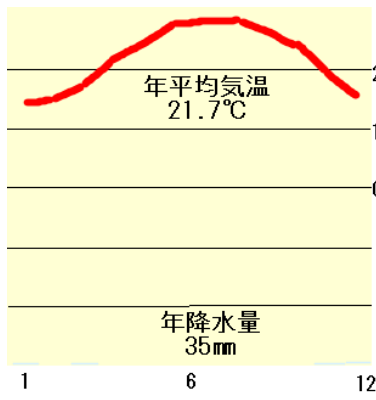
気候区分：温帯を細かく分けて、西岸海洋性気候、地中海性気候などの名称。

次の 1～6 雨温図の気候を答え、当てはまる都市を A～F から選びなさい。

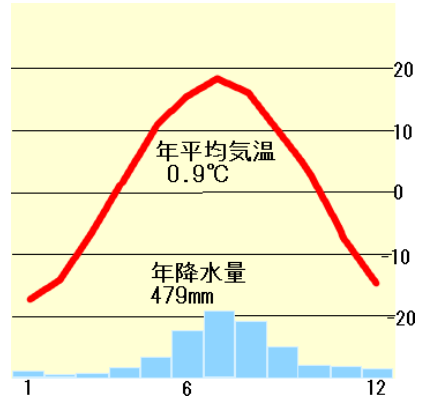
①



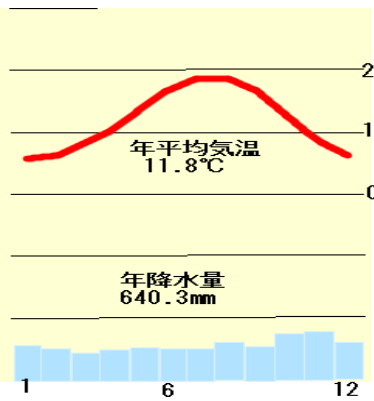
②



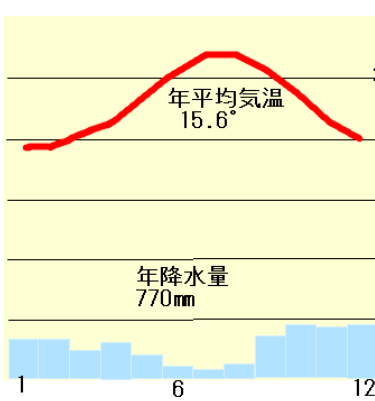
③



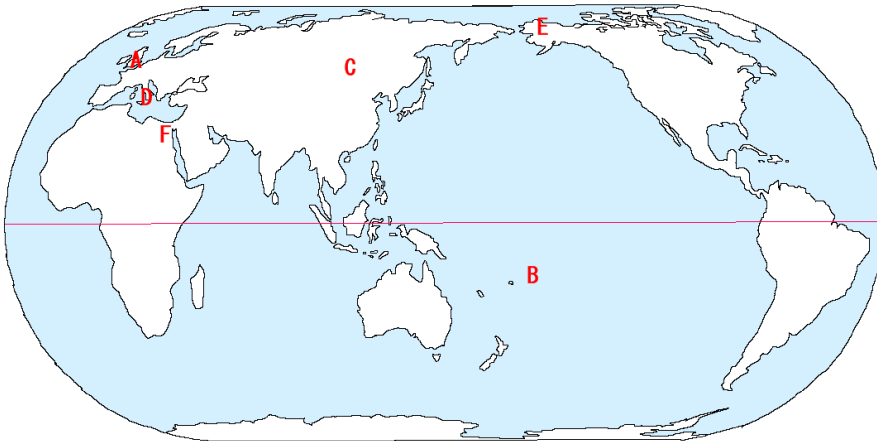
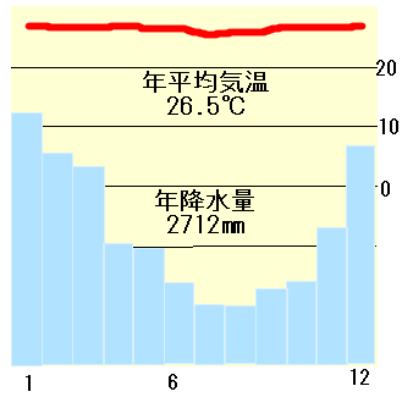
④



⑤



⑥



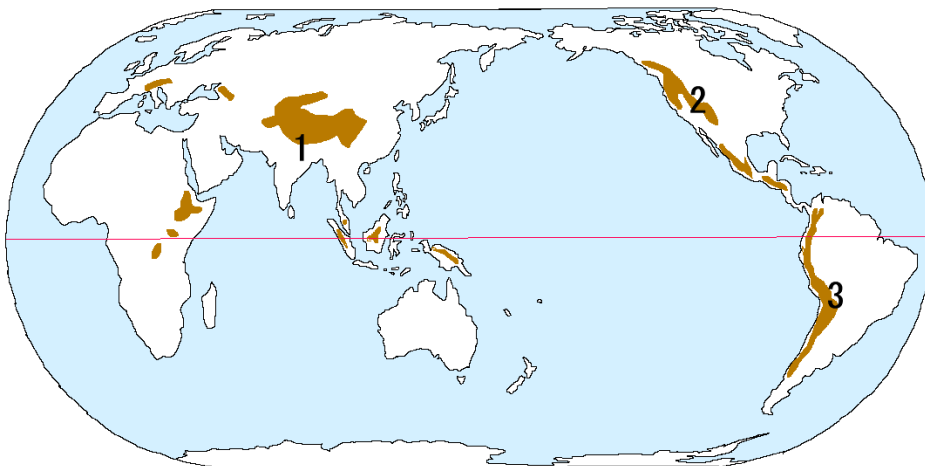
気候	都市	気候	都市	気候	都市
1		2		3	
4		5		6	

要点チェック (レベル 2)

熱帯	(1 )気候	一年通して気温が高く、降水量も多い 短時間で激しい雨(11 )が降る 背の高い密林(12 )が広がる 海岸には(13 )という森林
	(2 )気候	季節が(14 )・(15 )に分かれる 木がまばらに生えた草原
乾燥帯	(3 )気候	雨がほとんど降らない。 農業は(16 )の周りで行う
	(4 )気候	短い草原。水と草をもとめて、家畜と移動する (17 )が砂漠化で減少している。
温帯	(5 )気候	夏は乾燥し、日差しが強いため伝統的な家は石づくり 農業は(18 )・(19 )を栽培
	(6 )気候	ヨーロッパのほとんどの地域。暖流や偏西風のため、 冬でも気温が比較的暖かい。
	(7 )気候	一年通して降水量が多い。稲作がさかん。
(8 )帯		夏と冬の気温差が激しい。シベリアやカナダ北部の 針葉樹林を (20 )という。 建物は(21 )が解けるのを防ぐため高床
9 ( )帯	(10 )気候	夏に草とこけが生える。アラスカやカナダ北部には、 先住民の(22 )が伝統的な狩猟や漁を行った
	氷雪気候	一年中雪や氷におおわれている

高山気候：緯度や海からの距離でなく、標高により気温が変化する。1000m で約 6 度気温が下がる。  
4000m を超えると森林が形成されない。

次の山脈を答えなさい。

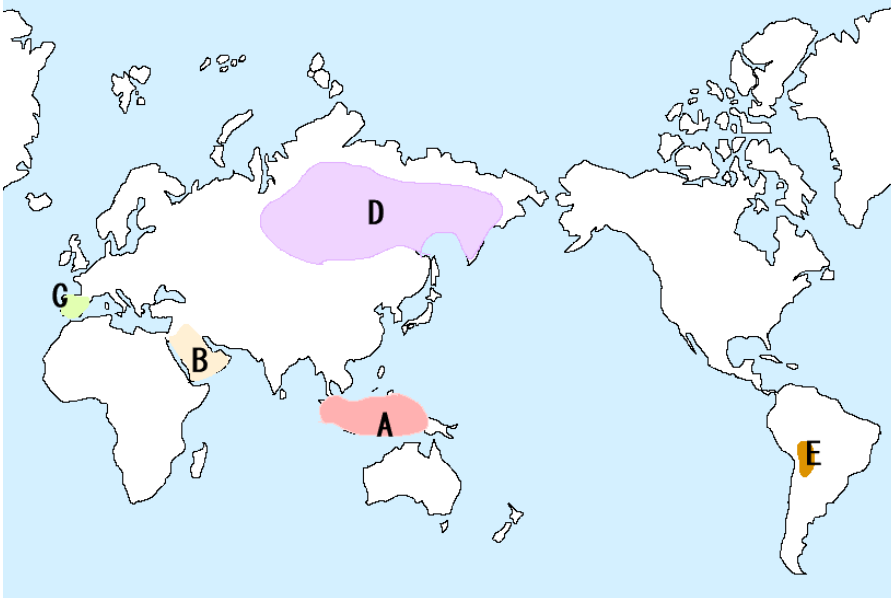


- 1( )山脈
- 2( )山脈
- 3( )山脈



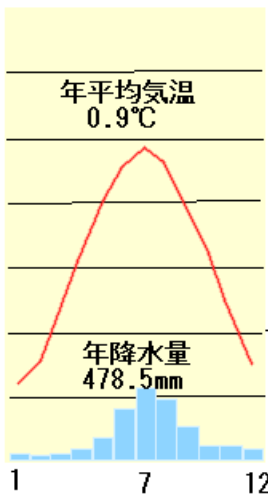
確認問題 (レベル3)

1, 次の A~D の地域に当てはまる雨温図をア~エから 1 つずつ選び、A~D が属する気候帯を答えなさい。



雨温図	気候帯
A	
B	
C	
D	

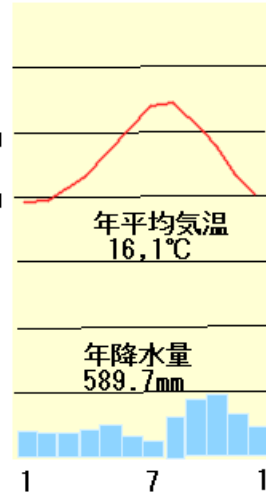
ア



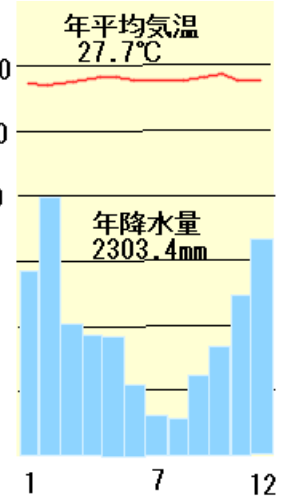
イ



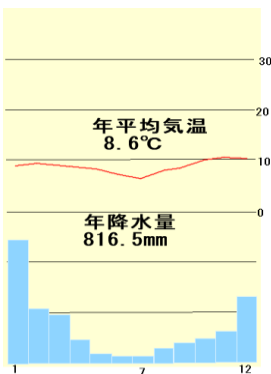
ウ



エ

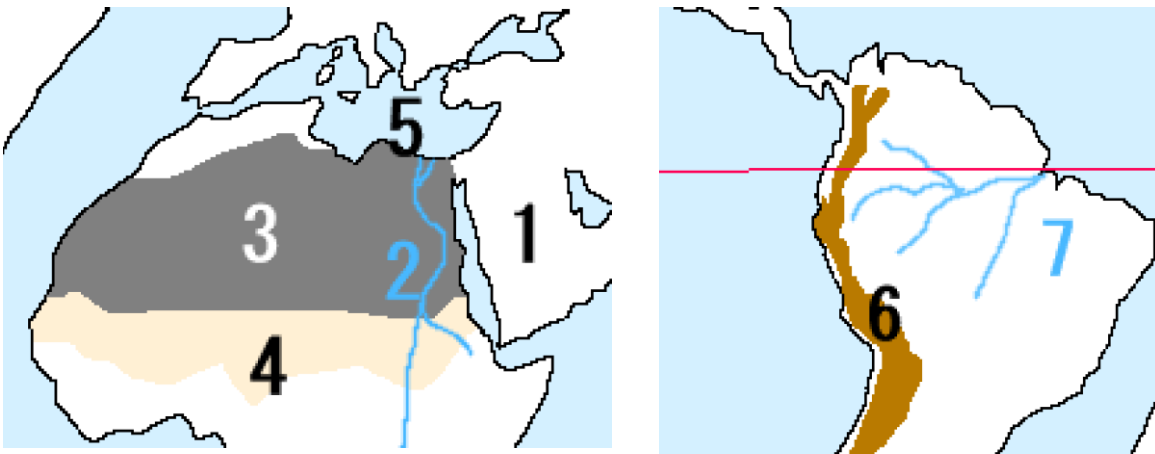


2, 下は E の雨温図である。A とほぼ同じ緯度だが、気温が低い理由を説明しなさい。



- 問1 赤道を中心に広がり、一年中気温が高い気候帯を何というか。  
 問2 1の地域で見られる背の高い樹木が密生する森林を何というか。  
 問3 一年を通して雨が少ない気候帯を何というか。  
 問4 3の地域で、井戸などにより水を得られるところを何というか。  
 問5 3の地域で行われてきた、草や水を求めて、らくだなどの家畜と移動する牧畜を何というか。  
 問6 3の地域でみられる家は、何で作られた家が多いか。  
 問7 温暖で四季の変化がはっきりとした気候帯を何というか。  
 問8 7のうち夏に乾燥する地域では、強い日差しを防ぐため窓を小さいほかに、何で作られた家が多いか。  
 問9 7よりも緯度が高く、夏と冬の寒暖差が大きい気候帯と何というか。  
 問10 9で見られる夏でも地中の水分が凍った状態の土を何というか。  
 問11 北極や南極など、一年中寒さが厳しい気候帯を何というか。  
 問12 赤道に近くても標高が高いため年平均気温が低い地域の気候を何というか。  
 問13 アンデス山脈の高地で放牧をしている主な家畜を2つ答えなさい。

4, 次の地名を答えなさい。



1	2	3
4	5	6
7		