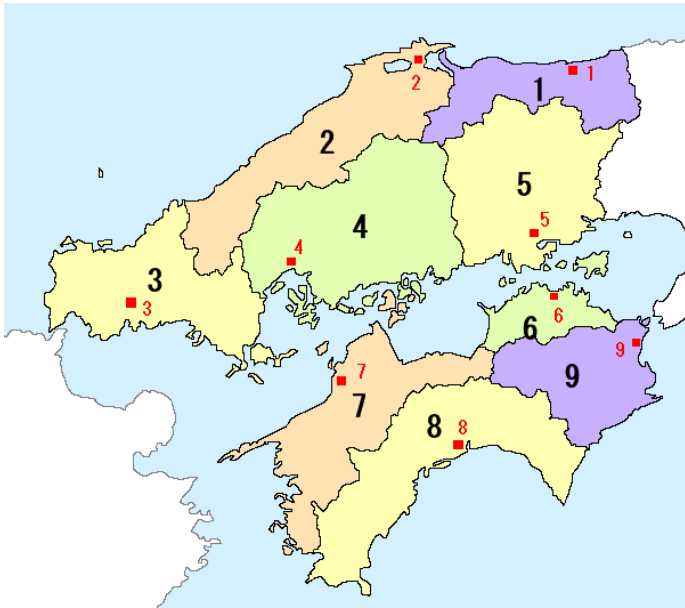


中学地理 中国・四国地方

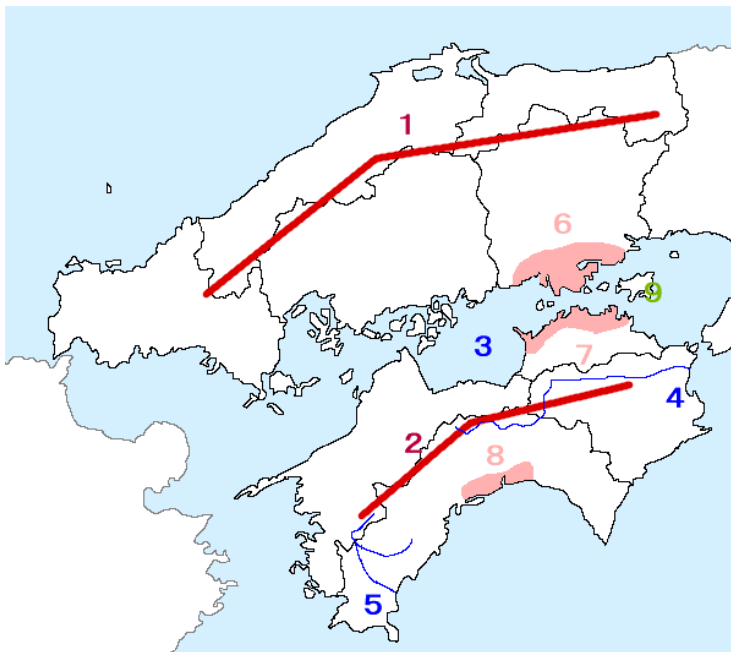
レベル1 (要点チェック)

1, 県と県庁所在地を書きなさい。



県名	県庁所在地
1	
2	
3	
4	
5	
6	
7	
8	
9	

2, 自然地形の名称



山地

1 () なたらかな山

2 () 険しい山

海

3 () 島が多く

川

4 () 四国で最も長い川

5 () 清流で有名

平野

6 ()

7 () ため池が多い

8 () 野菜の促成栽培

島

9 () オリーブの栽培

1, 中国・四国地方の自然・人口

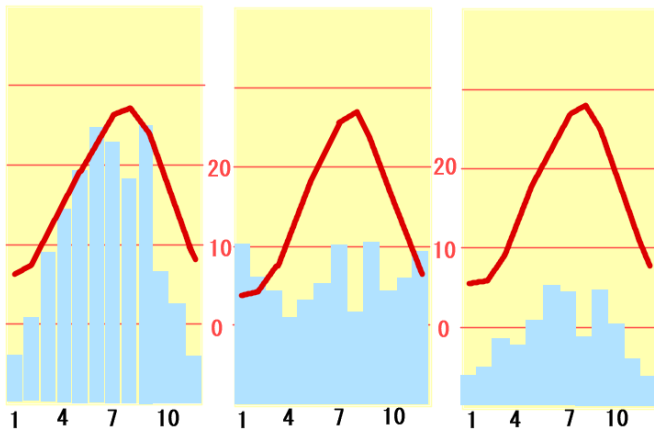
中国・四国地方は、(1)・(2)・(3)に分かれる。(2)は北の中国山地と南の四国山地によって(4)がさえぎられるため、1 年を通して雨が少なく、かんがい用に(5)を作ってきた。

1 の地方：北西の季節風の影響で、冬の降水量が多い。

3 の地方：暖流の黒潮の影響を受け、1 年を通して温暖。夏の降水量が多い。

問、次の雨温図は、南四国、瀬戸内、山陰のどれか答えなさい。

() () ()



また(6)の開通や高速道路の整備によって、各都市間の移動時間が短くなり、大都市に人が吸い寄せられる(7)が見られ、山間部や離島では(8)が進んでいる。
8 が進む地域では、(9)に取り組んでいる。

6 のルートについて

しまなみ海道	2006 年全線開通。尾道・今治を結ぶ
10	1988 年開通。児島・坂出を結ぶ
11 明石海峡大橋・大鳴門橋	1998 年開通。神戸・鳴門を結ぶ

過疎化、ため池、山陰、瀬戸大橋、ストロー現象、瀬戸内、季節風、町おこし・村おこし、本州四国連絡橋、南四国、

確認問題

- 問1 中国地方と四国地方の間にある海を何というか。
- 問2 瀬戸内は降水量が少なく、昔から水不足に悩まされてきたため、讃岐平野には何が多くみられるか。
- 問3 本州と四国を結ぶ3つのルートにかかる橋をまとめて何というか。
- 問4 中国・四国地方の山間部や離島では人口が大きく減少し、何が起きているか。(高齢化ではない)
- 問5 4が進んでいる地域では、特産品を加工して通信販売するなど、何に力を入れているか。
- 問6 交通網の整備によって、各都市間に移動時間が短くなった結果、大都市に人が吸い寄せられる現象を何というか。
- 問7 中国山地の北側で、季節風の影響で冬に降水量が多い地域を何というか。
- 問8 岡山県と香川県を結ぶ橋を何というか。
- 問9 徳島県と兵庫県淡路島を結ぶ橋を何というか。

2. 中国・四国地方の農業と漁業

高知平野では野菜の(1)、愛媛県や瀬戸内海の島々では(2)の栽培がさかんである。瀬戸内海の波のおだやかな海域では、魚介類の(3)も行われている。

各県の特産品

	なし・らっきょう		なす・きゅうり・ゆず
	もも・マスカット		オリーブ
	レモン・かき(養殖)		
	みかん・まだい(養殖)		

養殖、香川県、岡山県、広島県、高知県、愛媛県、みかん、鳥取県、促成栽培、

問、促成栽培とは、どのような栽培方法か説明しなさい。(九州地方で一度出しました)

3, (1) の特色

瀬戸内海沿岸は原料の輸入や製品の輸送に便利のため、塩田の跡地や遠浅の海岸を埋め立てて形成された。特に(2))や製鉄所が建設され、他の工業地位と比べて(3))の割合が大きい。

2 は石油精製工場、石油化学工場、火力発電所など関連する工場を結びついて、効率よく生産している。

石油化学コンビナート、瀬戸内工業地域、石油化学。

確認問題

- 問1 瀬戸内海でさかんな、魚や貝を大きくなるまで育ててから出荷する漁業を何というか。
- 問2 原料の輸入や製品の輸送に便利のため、瀬戸内海沿岸に形成された工業地域を何というか。
- 問3 石油関連の工場が結びついて効率よく生産している地域を何というか。
- 問4 広島市とその周辺には、ある製品の関連企業と工場が集中している。その製品は何か。
- 問5 高知平野ではきゅうりやなすなどの野菜を他の地域よりも早い時期に出荷する栽培を行っている。これを何というか。
- 問6 愛媛県や瀬戸内海の島々でさかんに栽培されている果物は何か。
- 問7 広島湾で全国の生産量の約 60%を養殖している魚介類は、何か。

レベル2 (要点チェック)

1, 中国・四国地方の自然と交通

・三つの地域区分

- (1)) : 中国山地より北側の地域。
- (2)) : 二つの山地にはさまれた地域。
- (3)) : 四国山地より南側の地域。

・気候

- 1 : 北西の季節風により、冬に雨や (4)) が多い
- 2 : 温暖で一年を通して(5))が少ないため、(6))が多く見られる
- 3 : 南東の季節風と暖流の影響で、夏に(7))が多い

語句リストは次のページにあります

4 ページのつづき (1 ページから順に解いてください)

・広島市の歴史

(8) : 原爆投下後に残った遺構。世界遺産。

(9) : 中国・四国地方で人口が最大。広島市のほかに、福岡市、仙台市、札幌市がある

・本州四国連絡橋

神戸鳴門ルート：淡路島と徳島を結ぶ橋を(10)、淡路島と本州を結ぶ橋を明石海峡大橋

児島坂出ルート：(11)といい、自動車と鉄道が通る。

尾道今治ルート：「瀬戸内しまなみ海道」

高速道路や(12)橋の整備により、自動車で各都市を移動しやすくなった。

→大都市に人が移動する(13)が起き、山間地や離島の(14)が進む

14 による問題

学校の廃校・バスなどの路線廃止で生活が不便になり、耕作放棄地が増え田畑や森林が荒れる

→(15) : 特産品のブランド化、イベント、インターネット通販など

市町村合併が進む

2, 中国・四国地方の農業・漁業

山陰の農業

・鳥取県：(16)の付近でらっきょうなどを栽培。丘陵地では(17)の栽培

瀬戸内の農業

・(18)平野では水不足対策のため池が多い

・果樹栽培：(19)のみかん、(20)のぶどう、(21)のレモン

瀬戸内の漁業

(22)漁業：広島県の(23)、愛媛県のまだい

(23)漁業：卵から稚魚までを人の手で育ててから、海に放流する

南四国の農業

(24)平野：ビニールハウスで野菜を栽培し他の地域より早く出荷する(25)を行う。

3, 中国・四国地方の工業

(25) : 古くから海上交通がさかんな瀬戸内海の沿岸に、塩田の跡地や埋立地を利用

特徴：海上交通の便利さを生かし(26)や金属工業がさかん

(27) : 石油を扱う工場が一か所に集まることで、効率よく生産

原爆ドーム、瀬戸内、高知、鳥取砂丘、石油化学、なし、愛媛県、促成栽培、過疎化、瀬戸大橋、雨、雪、ため池、岡山県、地方中枢都市、栽培、かき、瀬戸内工業地域、町おこし・村おこし、石油化学コンビナート、南四国、本州四国連絡、讃岐、広島県、養殖、ストロー現象、大鳴門橋、

レベル 3 (確認問題)

問、右の地図を見て、問に答えなさい。

地図 1

1 地図 1 中の①～③のルートをもとめて何というか。

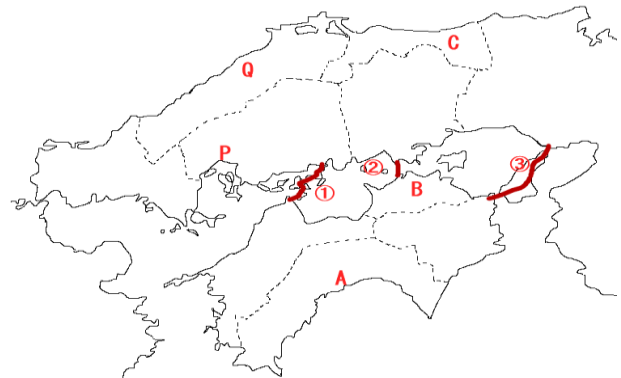
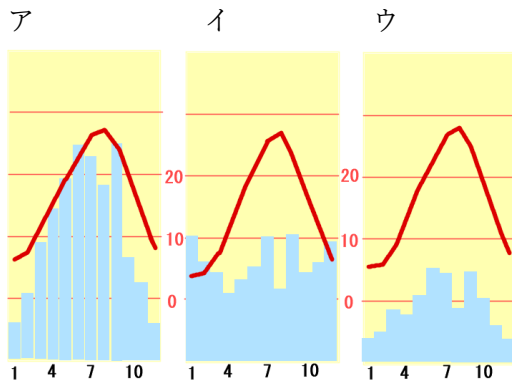
2 地図 1 中の①のルートが結ぶ都市名を次のア～カから 2つ 選びなさい。

- ア 神戸市 イ 尾道市 ウ 坂出市
- エ 今治市 オ 鳴門市 カ 倉敷市

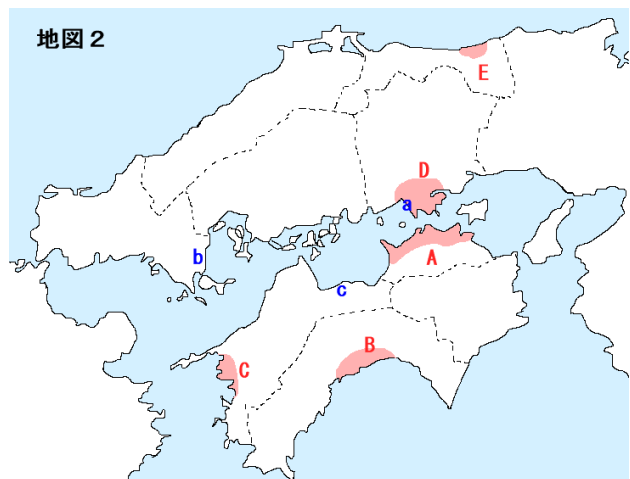
3 地図 1 中の P は、中国・四国地方最大の都市である。この都市とその近隣にある 世界遺産 を 2つ 答えなさい。

4 地図 1 中の Q は、世界遺産に登録されている鉱山跡である。これを何というか答えなさい。

5 雨温図ア～ウにあてはまる都市を、**地図 1** 中の A～C から選び、都市名も 答えなさい。



地図 2



6 **地図 2** 中の a, b, c の都市にある、石油製品の生産に関わる工場があつまり、工場どうしをパイプラインで結ぶ地域を何というか。

7 中国・四国地方の農業について、**地図 2** 中の A～D にあてはまるものを、次のア～エから選びなさい。

- ア 冬から春になすやきゅうりの促成栽培を行っている。
- イ みかんなどのかんきつ類の栽培がさかんである。
- ウ 雨が少ないため、かんがい用のため池が多くある。
- エ 丘陵地で白桃やマスカットの栽培がさかんである。

1	2	3	
4			
5ア		イ	ウ
6	7A	B	C D