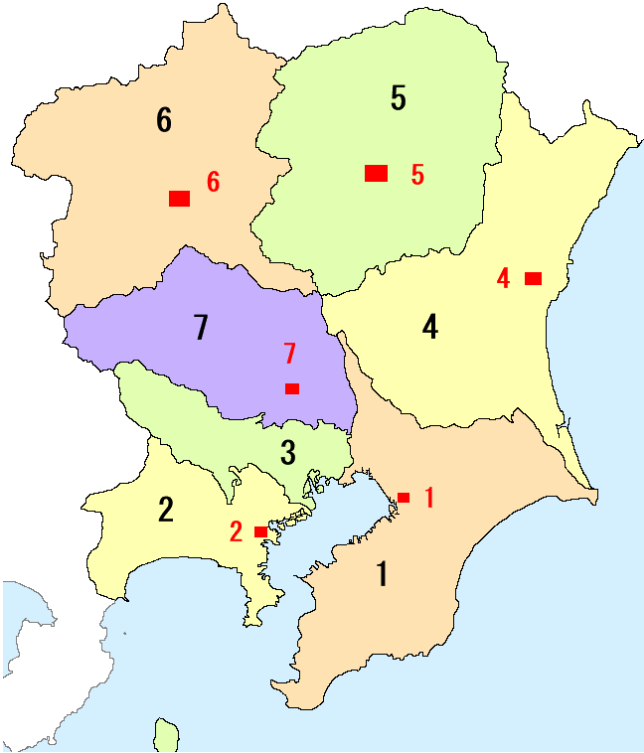


中学地理 関東地方（解答）

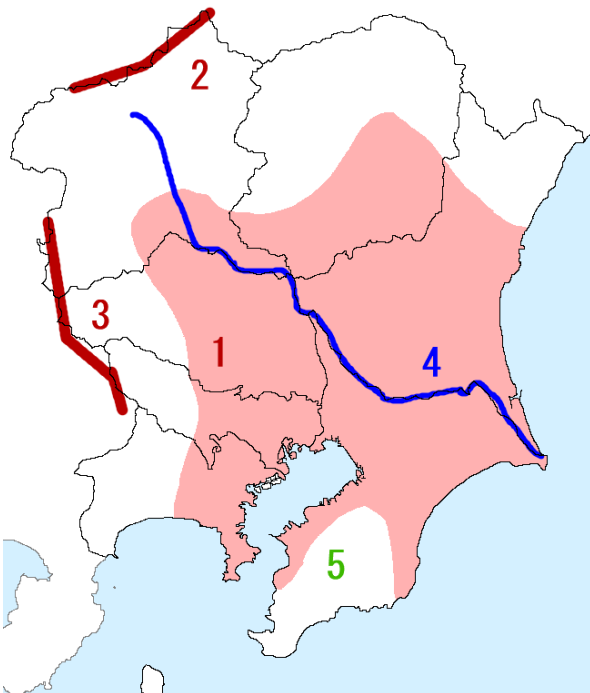
レベル1（要点チェック）

1, 次の都県と県庁所在地を書きなさい。



県名	県庁所在地
1 千葉県	千葉市
2 神奈川県	横浜市
3 東京都	
4 茨城県	水戸市
5 栃木県	宇都宮市
6 群馬県	前橋市
7 埼玉県	さいたま市

2, 関東地方の地形について、答えなさい。



- 1 (関東) 平野：日本最大の平野
- 2 (越後) 山脈：新潟県との境目
- 3 (関東) 山地
- 4 (利根 (とね)) 川：流域面積が最大
- 5 (房総 (ぼうそう)) 半島
- 6 (小笠原 (おがさわら)) 諸島：世界自然遺産に登録

1, 関東地方の自然

日本最大の平野である(1 関東平野)は、火山灰が積もった粘土質の(2 関東ローム)で覆われた台地と、川沿いの低地がある。東京都の中心部では周りの地域よりも気温が上昇する(3 ヒートアイランド現象)が見られる。北西の季節風が(4 越後)山脈などを越えるさいに乾燥して、(5 からっ風)が吹く。

2, 東京の人口問題

東京は日本の首都で、政治・経済・文化の中心地である。国会議事堂、最高裁判所、証券取引所、放送局、出版社など重要機関が集中する(6 都心)と、その機能を補いターミナル駅のある新宿や渋谷などの(7 副都心)がある。(8 東京大都市圏)は、周辺に人口 50 万人を超える(9 政令指定都市)が横浜市、川崎市、相模原市、さいたま市、千葉市とあり、人口が(10 過密)状態にある。特に 6 では通勤・通学のため(11 昼間人口)が多いが、郊外は(12 夜間人口)が多い。

高度経済成長期に東京の多摩、神奈川の港北など(13 ニュータウン)を建設、建物の老朽化と住民の高齢化が問題。

空港

(14 成田国際空港)：国際線が発着。貿易額が日本一。

その他、横浜港、東京港など日本有数の貿易港がある。

成田国際空港、越後、夜間人口、都心、からっ風、政令指定都市、ニュータウン、関東ローム、昼間人口、副都心、関東平野、ヒートアイランド現象、東京大都市圏、過密、

確認問題

問 1 関東平野に流れる流域面積が日本最大の川を何というか。

問 2 関東平野に火山灰が積もってできた赤土の台地を何というか。

問 3 高層ビルが集中する東京都の中心部で、周りの地域より気温が上昇することを何というか。

問 4 東京大都市圏に見られる、通勤ラッシュなど都市問題が起きる原因となっている、人口が集中しすぎる状態を何というか。

問 5 千葉県にあり貿易額が日本最大の国際空港を何というか。

問 6 国会議事堂や最高裁判所がある地域を何というか。

問 7 ターミナル駅のある新宿や渋谷などを何というか。

問 8 6 の地域では、昼間人口と夜間人口のどちらが多いか。

1 利根川

2 関東ローム

3 ヒートアイランド現象

4 過密

5 成田国際空港

6 都心

7 副都心

8 昼間人口

火山灰などの土壌：基本的に稲作に向かない

(シラス台地)：白い砂が由来。水はけがよいから、サツマイモや茶、畜産がさかん

(関東ローム)：赤茶色の粘土質で、植物が養分を吸収しづらいから、近郊農業など畑作がさかん

3, 関東地方の農業

(1 **近郊農業**) : 大都市の近くで、大都市向けに**新鮮な**野菜や果樹を栽培する農業。
 乳牛や卵用にわたりの畜産も、**新鮮さ**が重要なためさかん。
 群馬県の嬭恋村は、標高が高いため(2 **高原野菜**)を栽培。

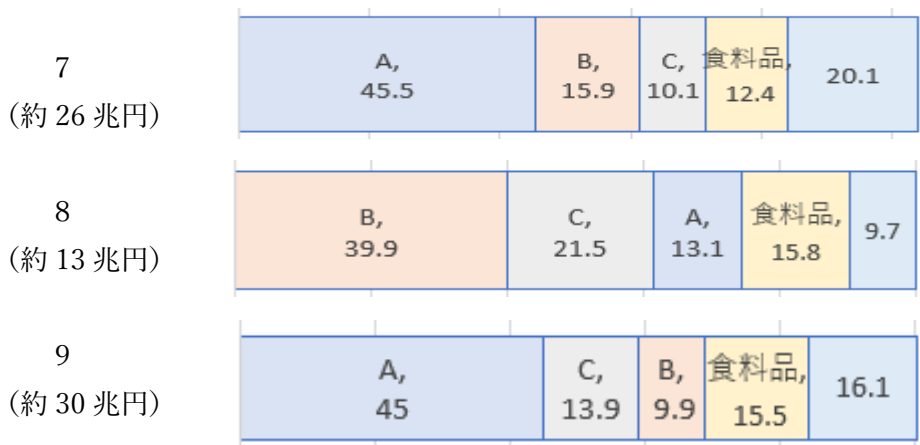
問、次の農産物の生産がさかんな県を答えなさい。

3 千葉県	らっかせい、卵用にわとり	5 栃木県	いちご、かんぴょう、乳牛
4 茨城県	れんこん、レタス、はくさい	6 群馬県	レタス、キャベツ (高原野菜 こんにゃくいも、

4, 関東地方の工業

(7 **京浜工業地帯**) : 神奈川県、東京都、埼玉県にあり、特に沿岸部で重化学工業がさかん。
 出版社の多い東京では印刷業もさかん。**機械が約 50%**。
 (8 **京葉工業地域**) : 千葉県の東京湾沿岸。**石油化学 40%**と鉄鋼業がさかん。
 (9 **北関東工業地域**) : 群馬県、栃木県、茨城県。高速道路が整備され、工業団地を形成。
自動車 (スバル) ・電気機械 (日立) が多め。

問、工業別出荷額について、次のグラフの A, B, C に当てはまるものを答えなさい。



A (**機械**)、B (**化学**)、C (**金属**)

群馬県、茨城県、栃木県、千葉県、北関東工業地域、京葉工業地域、京浜工業地帯、高原野菜、近郊農業、化学、金属、機械、

工業地帯と地域のちがい

四大工業**地帯** : 西から (**北九州**)、(**阪神**)、(**中京**)、(**京浜**)

その他、瀬戸内、東海、北陸、京葉、北関東は工業**地域**

確認問題

- 問1 大都市向けに新鮮な野菜や果樹を栽培する農業を何というか。
- 問2 群馬県嬭恋村は夏でも涼しい気候を生かして、栽培している農産物を何というか。
- 問3 栃木県では乳牛、茨城県や千葉県では卵用にわとりをさかんに飼育する何が行われているか。
- 問4 群馬県・栃木県・茨城県は高速道路が整備されたことで形成された工業地域を何というか。
- 問5 神奈川県・東京都・埼玉県に広がる工業地帯を何というか。
- 問6 千葉県の東京湾沿岸に形成された工業地域を何というか。
- 問7 栃木県で栽培がさかんな農産物を2つ書きなさい。
- 問8 人口や情報が集まる東京都でさかんな工業は何か。
- 問9 東京都では情報通信技術関連産業や観光業などが発達している。これらの産業をまとめて何というか。

- 1 近郊農業
- 2 高原野菜
- 3 畜産
- 4 北関東工業地域
- 5 京浜工業地帯
- 6 京葉工業地域
- 7 いちご、かんぴょう
- 8 印刷業
- 9 第三次産業

レベル2 (要点チェック)

1, 関東地方の自然

・地形

日本最大の面積のある(1 関東平野)は、火山灰などの赤土の(2 関東ローム)が積もった台地におおわれ、稲作の代わりに(3 畑作)がさかんである。また、流域面積の(4 利根川)が流れている。

・気候

関東平野は(5 太平洋側)の気候で、夏の雨が多く、冬は乾燥した(6 からっ風)が吹く。

(7 ヒートアイランド現象)：高層ビルが集まる東京の中心部は、気温が周囲より高くなる。

・(8 小笠原諸島)は温暖で雨の多い亜熱帯に属する。

2, 関東地方の都市・人口

(9 東京大都市圏)：東京を中心に人口の多い都市が集まる。新幹線や高速道路が放射線状に広がる。

(10 都心)：政治・経済の重要機関が集中する中心部。

(11 副都心)：ターミナル駅のある新宿・渋谷など。10の役割を一部になう。

(12 政令指定都市)：人口50万人を超える都市、都道府県の一部の権限がうつされている。

横浜市、川崎市、相模原市、さいたま市、千葉市

→人口の(13 過密)が問題

通勤圏では、10と比べて(14 夜間人口)が多い。

(15 ニュータウン)：1960年代東京の多摩、神奈川の港北、千葉などに整備された住宅団地。

現在は建物の老朽化と住民の高齢化が問題

筑波研究学園都市：大学や研究機関が茨城県に移転

(16 成田国際空港)：千葉県にある国際空港。貿易額が日本一

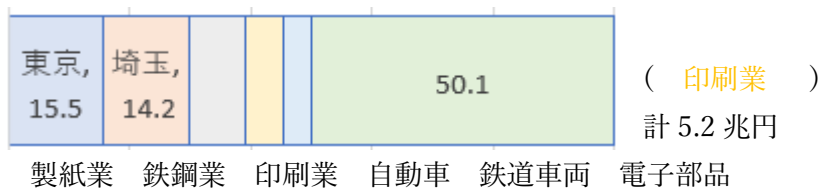
(語群は次のページ)

ニュータウン、太平洋側、副都心、過密、からっ風、関東平野、ヒートアイランド現象、都心、夜間人口、関東ローム、東京大都市圏、成田国際空港、利根川、政令指定都市、畑作、小笠原諸島

3、関東地方の工業

- (1 **京浜工業地帯**) : 東京・川崎・横浜など東京湾西側の埋立地に重化学工業や火力発電所。
 都心では(2 **印刷業**)が発達。横浜港と東京港は、貿易額が日本有数。
- (3 **京葉工業地域**) : 千葉県の東京湾東側の埋立地に、鉄鋼と(4 **石油化学コンビナート**)が発達。
- (5 **北関東工業地域**) : 群馬県、栃木県、茨城県に高速道路が整備され、多くの工業が移転・進出
 工業団地を形成し、機械工業がさかん。

問、次のグラフが示す工業を下の語群から選びなさい。



4、関東地方の農業

- (6 **近郊農業**) : 大都市向けに新鮮な野菜などを栽培。茨城県、栃木県、群馬県、千葉県がさかん。
 栃木県の(7 **いちご**)、茨城県のれんこん、はくさい、群馬県のこんにゃくいも
- 畜産** : 大都市向けに新鮮さが重要な(8 **牛乳**)や(9 **鶏卵**)を生産。8, 9は順不同
- (10 **高原野菜**) : 群馬県嬭恋村では夏でも涼しい気候生かしてキャベツなどを栽培

問、次のグラフが示す農産物を下の語群から選びなさい。(色つきは関東地方)



5、関東地方の世界遺産

- 日光の寺社 : 徳川家康をまつる日光東照宮など (栃木県)、
- (11 **富岡製糸場**) : 近代製糸業のはじまり (群馬県)
- (12 **小笠原諸島**) : 島固有の希少な生物が生息 (東京都)
- 国立西洋美術館 : 建築家ル・コルビュジエが設計 (東京都)

印刷業、いちご、牛乳、富岡製糸場、石油化学コンビナート、鶏卵、京葉工業地域、高原野菜、北関東工業地域、小笠原諸島、近郊農業、京浜工業地帯、

レベル 3 (確認問題)

1, 右の地図を見て、次の問いに答えなさい。

1 地図中①～⑤は、人口 50 万人以上の大都市であり、都道府県と同等の権限が認められている。このような都市を何というか。

2 地図中①～⑤の都市名を答え、次の記号に当てはまる説明を 1 つずつ選びなさい。

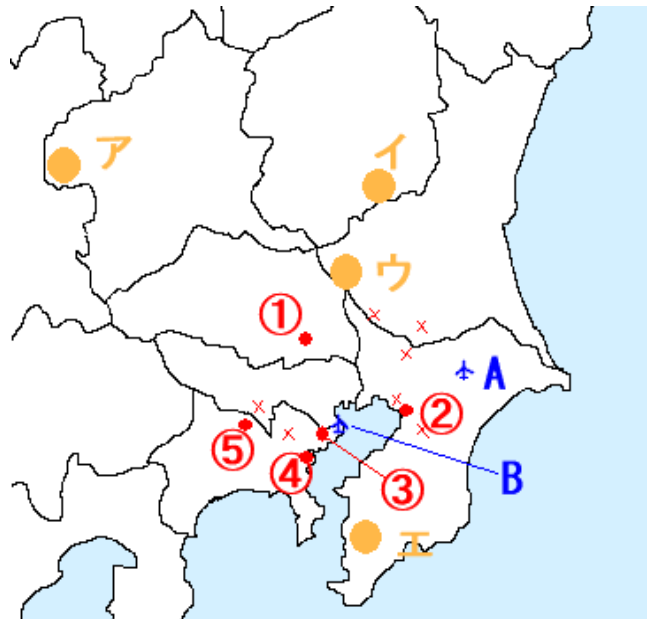
- ア 日本有数の貿易港がある。
- イ さいたま新都心がある。
- ウ 再開発で幕張新都心が整備された。
- エ 多摩地区などニュータウンに近い。
- オ 戦前から重化学工業が発達している。

3 地図中 A,B の空港のうち、貿易額が日本最大であるのはどれか。記号と空港名を答えなさい。

4 次の①～④に当てはまる地域を、地図のア～エからそれぞれ選びなさい。

- ① 夏でも涼しい気候を利用して、キャベツを栽培している。
- ② 温暖な気候を利用して、1 年通して花の栽培をしている。
- ③ いちごの生産量が多い。
- ④ はくさいの生産量が多い。

5 地図中×は、1970 年代に多くの人住めるように森林や農地を開発した住宅地である。これを何というか。



1 政令指定都市	2①さいたま市	イ	②千葉市	ウ	③川崎市	オ
④横浜市	ア	⑤相模原市	エ	3 成田国際空港		A
4① ア	② エ		③ イ		④ ウ	
5 ニュータウン						