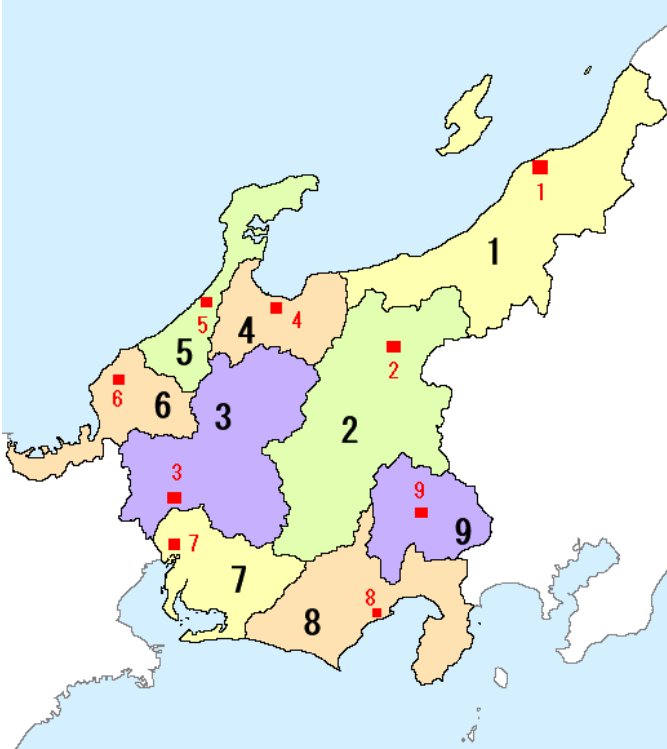


中学地理 中部地方

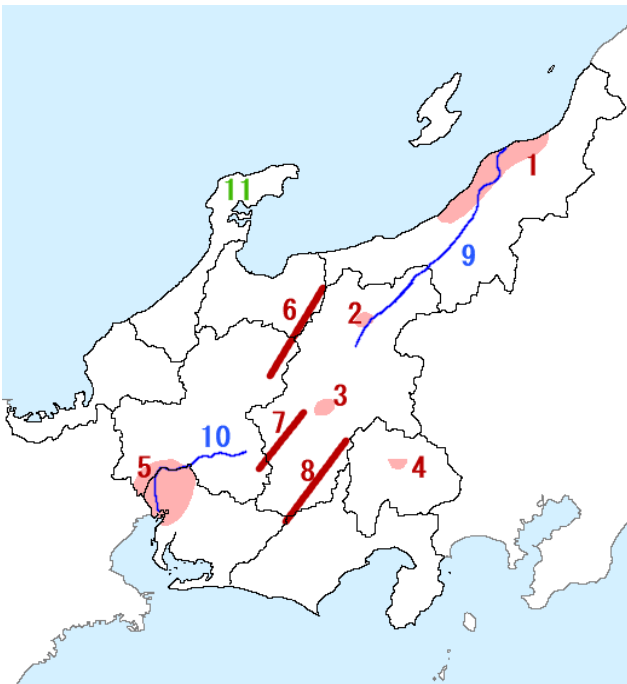
レベル1 (要点チェック)

1, 次の県名と県庁所在地を書きなさい。



県名	県庁所在地
1	1
2	2
3	3
4	4
5	5
6	6
7	7
8	8
9	9

2, 中部地方の地名について書きなさい。



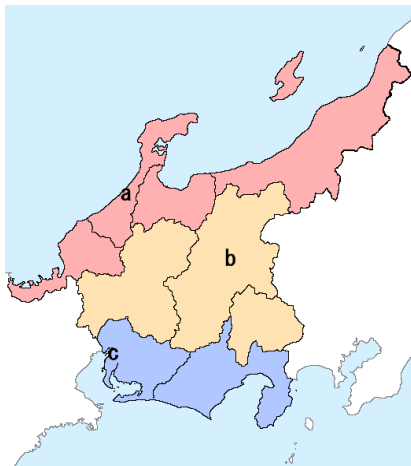
- 1 ( ) 平野：米の生産がさかん
- 2 ( ) 盆地：りんご栽培
- 3 ( ) 盆地：精密機械で発展
- 4 ( ) 盆地：ぶどう・もも
- 5 ( ) 平野：洪水が起きやすい
- 日本アルプス
- 6 ( ) 山脈
- 7 ( ) 山脈
- 8 ( ) 山脈
- 9 ( ) 川：日本最長の河川
- 10 ( ) 川
- 11 ( ) 半島

### 1, 中部地方の気候

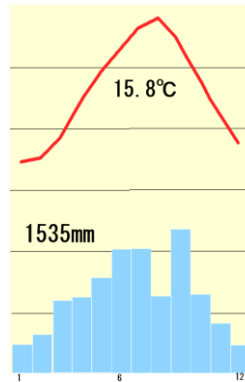
中部地方は北から (1 )、(2 )、(3 )に分けられる。

2には(4 )とよばれる 3000m 級の山脈がある。

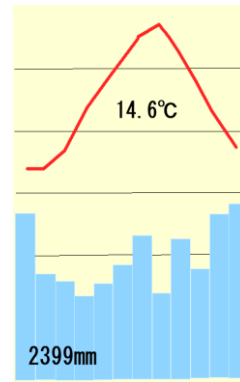
問、次の雨温図は、それぞれどの地域か答えなさい。



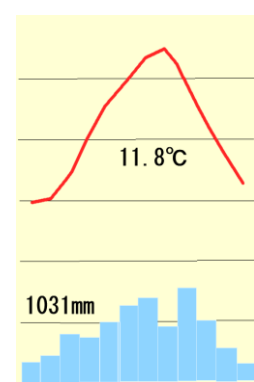
( ) ( ) ( )



夏の雨が多い



冬の雪が多い



夏と冬の気温差が大きい

### 2, 中部地方の工業

(5 ) : 愛知県中心、工業生産が日本最大、自動車を中心、四日市の石油化学

(6 ) : 静岡県沿岸、浜松の楽器・オートバイ、富士の製紙、

中央高地：諏訪の時計・カメラなど精密機械、松本の電気機械

(7 ) : 冬に農業ができないから、古くからの技術や地元産の原材料を使う伝統工芸などの(8 )が発達。鯖江のメガネフレーム、燕の洋食器、富山の菓、など

東海工業地域、地場産業、北陸、北陸工業地域、東海、中央高地、日本アルプス、中京工業地帯、

問、次の表にあてはまる工業地帯・工業地域を表から選んで答えなさい。

1	総額 54兆	金属 9.4	機械 69.4	化学 6.2	食料品 4.7	その他 9.5
2	総額 33	金属 20.7	機械 36.9	化学 17.0	食料品 11	その他 13.1
3	総額 39.7	金属 10.1	機械 45.5	化学 15.5	食料品 12.4	その他 15.6
4	総額 12	金属 21.5	機械 13.1	化学 39.9	食料品 15.8	その他 9.5
5	総額 29	金属 17.3	機械 36.8	化学 20.6	食料品 8.4	その他 14.7

阪神工業地帯、京浜工業地帯、中京工業地帯、瀬戸内工業地域、京葉工業地域

東海工業地域は総額 16 兆円で機械が多め、東京・大阪に近いほど食料品の割合が高め


確認問題

- 問1 中部地方のうち日本海側の地域を何というか。
- 問2 日本アルプスを構成する山脈3つを北から順に答えなさい。
  
- 問3 日本で最も長い川は何か。またその下流に広がる平野を何というか。
- 問4 三大都市圏のうち中部地方にある都市圏を何というか。
- 問5 愛知県を中心にある自動車の製造がさかんな工業地帯を何というか。
- 問6 5のうち自動車の製造がさかんな都市はどこか。
- 問7 静岡県沿岸にあるオートバイや楽器の製造がさかんな工業地域を何というか。
- 問8 7のうちオートバイや楽器の製造がさかんな都市はどこか。
- 問9 北陸でさかんな、古くからの技術を用いて、地元産の原材料から製品をつくる産業を何というか。
- 問10 福井県鯖江市で日本の90%以上を生産している製品は何か。

3. 中部地方の農業

- ・北陸は雪どけ水をいかして(1 )がさかんで、コシヒカリなどの(2 )が生まれた。
- ・中央高地は、甲府盆地で(3 )、長野盆地で(4 )の果樹栽培がさかんで、野辺山原は夏でも涼しい気候を生かして、他の地域より遅い時期に野菜を出荷する(5 )を行っている。
- ・東海は冬でも温暖なため、愛知県渥美半島では(6 )を行っている。また静岡県牧之原は(7 )の栽培が全国の約4割を占めている。

問、次のグラフが表す農産物を答えなさい。(次のページに語群がある)



3 ページの語群

茶、ぶどう、レタス、りんご、もも、みかん、施設園芸農業、抑制栽培、銘柄米、稲作、

確認問題

- 問1 北陸は米の生産がさかんであるが、とくに付加価値をつけた栽培品種を何というか。
- 問2 甲府盆地にあるぶどう・ももの果樹栽培に適している水はけのよい地形を何というか。
- 問3 長野県野辺山原など、夏でも涼しいところで栽培される野菜を何というか。
- 問4 愛知県渥美半島などで、ビニールハウスを利用して花や野菜を栽培する農業を何というか。
- 問5 3や4で見られる、他の地域より遅い時期に出荷する栽培方法を何というか。
- 問6 静岡県牧之原で栽培されている農産物は何か。

レベル2 (要点チェック)

1, 中部地方の自然と交通

- ・飛騨・木曾・赤石山脈をまとめて(1 )といい、その西側の地質を(2 )と呼ぶ。
- ・気候
- (3 ) : 太平洋側の地域。夏に雨が多い。
- (4 ) : 高い山に囲まれた地域。高地では夏は涼しい。夏と冬の気温差が大きい。
- (5 ) : 日本海側の地域。冬に雪が多い。
- ・(6 ) : 三大都市圏のひとつ。人口が1100万人以上。
- ・新幹線 : 東海道新幹線、北陸新幹線、上越新幹線が通る
- ・世界遺産 : 岐阜県白川郷と富山県五箇山の(7 )集落

2, 中部地方の工業

- (8 ) : 愛知県を中心とした地域 (三重県北部も含む)。生産額が日本最大。
- よっかいち  
四日市市 : 石油化学、高度経済成長期に大気汚染で(9 )を起こす。
- 瀬戸市 : (10 )の生産
- (11 ) : 自動車。その周辺の関連工場や下請け工場が集中。
- (12 ) : 静岡県沿岸
- (13 ) : 楽器・オートバイ、富士 : 製紙・パルプ

中央高地

諏訪盆地 : カメラや時計など(14 )、電子機械

語群は次のページ

## 北陸

(15 ) : 日本海側の工業地域

伝統産業 : 冬の農家の副業から発達。輪島塗、九谷焼、小千谷縮、など

(16 ) : 古くからの技術と地元産の原料をもとに地域に根付いて発達。

例 : 福井県鯖江の(17 )、新潟県燕の洋食器など

高度経済成長期の公害病に富山県の**イタイイタイ病**、**新潟水俣病**

東海、東海工業地域、北陸、北陸工業地域、名古屋、合掌造り、精密機械、豊田市、浜松市、四日市ぜんそく、中央高地、陶磁器、眼鏡フレーム、日本アルプス、地場産業、中京工業地帯、フォッサマグナ、

### 3、中部地方の農業

#### ・東海

(1 ) : 木曾川・<sup>ながら</sup>長良川・<sup>いび</sup>揖斐川の集まる低湿地、洪水から家や田畑を守るため高い堤防で囲む

(2 ) 農業 : ビニールハウスでの栽培。渥美半島は**電照菊**、知多半島は野菜

**茶** : (3 ) <sup>まきのほら</sup>県牧之原で全国の約 4 割を栽培

#### 漁業

(4 ) 港 : 遠洋漁業の代表的な港。まぐろ、かつお。

#### ・中央高地

(5 ) : 他の地域より出荷を**遅らせる**栽培方法。

浅間山・八ヶ岳の山ろくで夏の涼しい気候を利用してレタスなど(6 )を栽培。

果樹栽培 : りんごは(7 )盆地・松本盆地、ぶどう・ももは(8 )盆地の扇状地。

#### ・北陸

(9 ) : 1 年に 1 度 1 種類を栽培する農業、雪どけ水を利用して(10 )がさかん。

(11 ) : コシヒカリなど付加価値の高い品種

単作、高原野菜、焼津 (やいづ)、輪中 (わじゅう)、稲作、甲府、抑制裁培、静岡、銘柄米、施設園芸、長野、

レベル3 (確認問題)

1, 右の地図を見て、次の間に答えなさい。

(1) 地図中 Aの工業地帯 を何と言うか。また、自動車の製造がさかんな aの都市名 を答えなさい。

(2) b は中部地方最大の都市である。この都市名を答えなさい。

(3) 地図中 c と d の都市でさかんな工業または製品を、それぞれ選びなさい。

ア 陶磁器    イ 製紙・パルプ    ウ 鉄鋼業    エ オートバイ・楽器

(4) 次のグラフは、地図中Cの県でさかんに栽培されている農産物である。それぞれ、答えなさい。

①

和歌山,	C,	愛媛,		その他,
20.1	14.8	14.7		32.3

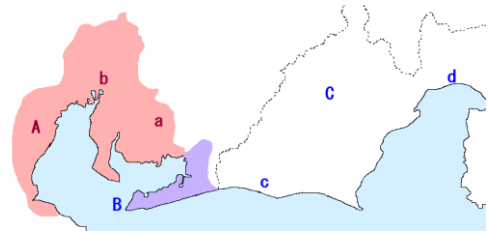
②

C,	鹿児島,	その他,
38.6	36.6	17.1

(5) 地図中Bの 半島名 を書きなさい。また、この半島で生産がさかんなものを選びなさい。

ア りんご    イ 電照菊    ウ 茶    エ 稲作

1A	a	2b
3c	d	
4①	②	5



2, 右の地図を見て、次の間に答えなさい。

(1) 地図中bの盆地に見られる水はけのよい地形を何と言うか。

(2) 地図中 a, b の盆地で栽培がさかんな果樹を、それぞれ選びなさい。

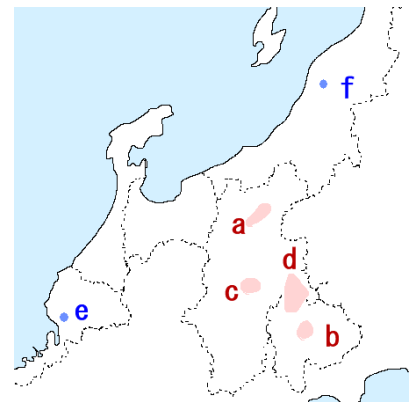
ア 洋なし    イ もも    ウ りんご    エ みかん

(3) 地図中 c の盆地では、第二次世界大戦後どのような工業が発達したか。

(4) 地図中 d で行われている抑制栽培とはどのような栽培方法か、説明しなさい。

(5) 地図中 e, f では、農家の副業から地域に根差した産業が発達した。このような産業を何と言うか。また、e, f、それぞれでさかんに作られているものを、それぞれ選びなさい。

ア 小千谷縮    イ 輪島塗    ウ 眼鏡フレーム    エ 金属洋食器



1	2a	b
3		
4		
5	e	f